



2015 年军队文职人员招聘考试

公共科目真题



扫描二维码, 关注厚职公考官方公众号获取更多真题和资料
厚职公考网 (www.houzhawang.com) 整理提供



2015 年军队文职人员招聘考试公共科目真题及答案

第一部分 公共知识

一、单项选择题 (请根据题目要求, 在四个选项中选出一个最恰当的答案。)

1. 法律由国家制定或认可, 体现国家对人们行为的评价。这表明法律具有:
A. 国家强制性
B. 普遍性
C. 国家意志性
D. 规范性
2. 就货币的起源来说, 货币是:
A. 在商品没有出现以前就已经存在
B. 商品内在矛盾发展的必然产物
C. 由少数经常交换商品的人发明的
D. 由贵金属的自然属性决定的
3. 文职人员履行岗位职责时, 应当____, 应当遵守有关着装和军容风纪的规定。
A. 着军队统一式样的文职人员服装, 佩戴文职人员胸标
B. 着训练服、佩戴文职人员胸标
C. 着训练服、佩戴单位臂章
D. 着军队统一式样的文职人员服装, 佩戴单位臂章
4. 文职人员的聘用和管理, 应当贯彻尊重劳动、尊重知识、尊重人才、尊重创造的方针, 坚持____的原则。
A. 选聘政治合格的尖端人才
B. 公平、公开、公正
C. 任人唯贤、德才兼备、公平择优
D. 统一考核、统一分配
5. 下列情形中, 属于无因管理的是:
A. 在加丁. 合同中, 承揽人管理定做入提供的原材料
B. 买方无正当理由拒收卖方交付的货物, 卖方对该货物进行管理
C. 甲拾得乙丢失的牛, 在积极寻找失主的同时, 对该牛进行管理
D. 超市对进入超市的顾客的皮包进行保管
6. 1992 年, 党的十四大提出了我国经济体制改革的目标是建立社会主义市场经济体制, 经过 20 多年的实践, 十八届三中全会对政府和市场的关系有了新的科学定位, 提出要使市场在资源配置中起____作用。
A. 决定性
B. 基础性
C. 直接性
D. 辅助性
7. 马克思主义政治经济学的研究对象是:
A. 社会生产关系及其发展规律
B. 社会生产力及其发展规律
C. 物质资料的生产过程
D. 物质资料的再生产过程
8. 根据我国《继承法》的规定, 下列情形中, 继承人可能不丧失继承权的是:
A. 故意杀害被继承人
B. 故意杀害其他继承人
C. 遗弃被继承人
D. 虐待被继承人情节严重的
9. 中国人民付出艰辛努力、作出巨大牺牲, 终于找到了实现中华民族伟大复兴的正确道路——中国特色社会主义道路。中国特色社会主义道路之所以完全正确、之所以能够引领中国发展进步, 关键在于我们:
A. 既继承发扬优良传统又充分体现时代精神



- A. 成反比
B. 可能成正比, 也可能成反比
C. 成正比
D. 无关
20. 资本主义现实经济生活中, 资本的本质和剩余价值的来源被工资所掩盖, 资本主义的工资本质是:
A. 劳动的价值或价格
B. 劳动力的价值或价格的隐蔽形式
C. 工人劳动凝结的货币表现形式
D. 资本家剥削工人的消费过程
21. 垄断高价高于价值和生产价格意味着:
A. 社会商品价格总额会大于价值总额
B. 并不违背价值规律, 社会商品价格总额与价值总额还是相等的
C. 垄断价格不受价值制约
D. 社会商品价格总额会小于价值总额
22. 生物进化的基本单位是:
A. 细胞
B. 种群
C. 基因
D. 核酸
23. “我们中华民族有同自己的敌人血战到底的气概, 有在自力更生的基础上光复旧物的决心, 有自立于世界民族之林的能力。”这句话体现了毛泽东思想活的灵魂____的方面。
A. 群众路线
B. 统一战线
C. 独立自主
D. 武装斗争
24. 习近平主席指出, 必须坚持全部心思向打仗聚焦, 各项工作向打仗用劲, 牢固树立这个唯一的根本的标准。
A. 战斗力
B. 作风优良
C. 从严治军
D. 实战练兵
25. 关于军队安全保密, 下列说法不正确的是:
A. 军事设施和其他涉密场所、部位, 应当采取有效的保密防护措施, 未经有相应批准权限的机关批准, 不得对外开放
B. 在有线、无线通信中传递军事秘密, 必须根据其密级采取相应的保密措施
C. 机密级的军事秘密应由师级以上单位确定, 绝密级的军事秘密应由军级以上单位确定
D. 武装力量的组织编制, 部队的任务、实力、素质、状态等基本情况, 军以下部队及特殊单位的番号不属于军事秘密
26. 文职人员获得一次三等功奖励的, ____。
A. 可以增加一级薪级工资
B. 提前一年晋升一级岗位等级
C. 合同期满后优先续聘
D. 绩效工资加 10%
27. 下列选项中, 属于我国公民依法履行的国防义务是:
A. 平时兵员征集
B. 兵役义务
C. 战时兵员动员
D. 对服役和参加军事训练人员的利益补偿
28. 我国的军事法律由____制定。
A. 全国人大及其常务委员会
B. 中央军委
C. 国务院
D. 国务院和中央军委
29. 中华人民共和国的武装力量受____领导, 它的任务是巩固国防, 抵抗侵略, 保卫祖国, 保卫人民的和平劳动, 参加国家建设事业, 全心全意为人民服务。



- A. 中国国防部
B. 中国人民
C. 国家主席
D. 中国共产党
30. 用中子轰击铀核时出现原子核裂变, 并释放出新的____的现象, 称核裂变反应。
A. 质子
B. 电子
C. 原子
D. 中子
31. 文明冲突论的创始人是:
A. 基辛格
B. 布热津斯基
C. 霍金
D. 亨廷顿
32. 马克思主义政党的一切理论和奋斗都应致力于实现以劳动人民为主体的最广大人民的根本利益, 这是马克思主义:
A. 强大生命力的根源
B. 最重要的理论品质
C. 最鲜明的政治立场
D. 最崇高的社会理想
33. 《中华人民共和国国防法》指出, 国家独立自主、自力更生地建设和巩固国防, 实行____战略, 坚持全民自卫原则。
A. 全球打击
B. 积极防御
C. 主动防御
D. 消极防御
34. 根据我国《劳动合同法》的规定, 任何组织或个人对违反《劳动合同法》的行为都有权:
A. 向当地劳动行政部门举报
B. 向当地劳动仲裁部门申请劳动仲裁
C. 向当地人民法院起诉
D. 向用人单位上级反映
35. 判断改革得失成败的标准是:
A. “三个有利于”标准
B. 生产力标准
C. 生产关系标准
D. 人民群众标准
36. 李某以欺诈手段订立损害国家利益的合同, 该合同属于:
A. 效力待定合同
B. 无效合同
C. 可撤销合同
D. 附条件合同
37. 首次聘用到专业技术岗位的文职人员, 聘用到初级岗位的, 根据学历确定为十三级至十一级, 其中, 具有____学历的, 确定为十二级。
A. 大学专科
B. 大学本科
C. 博士研究生
D. 硕士研究生
38. 生产关系总和是指:
A. 生产、分配、消费方面的经济关系总和
B. 生产、分配方面的经济关系总和
C. 生产、分配、交换方面的经济关系总和
D. 生产、分配、交换、消费方面的经济关系总和
39. 马克思根据人的发展状况把人类历史划分为三大形态, 他们是:
A. 自然经济社会, 商品经济社会, 市场经济社会
B. 原始公有制社会, 私有制社会, 共产主义公有制社会
C. 农业社会, 工业社会, 信息社会
D. 人的依赖性社会, 物的依赖性社会, 人的自由全面发展社会
40. 根据我国《著作权法》的规定, 下列不受著作权法保护的作品或对象是:
A. 口述作品
B. 官方文件



- C. 建筑作品
D. 摄影作品
41. 党的十八届四中全会的主要议程是研究____重大问题。
A. 全面加强经济建设
B. 全面推进政治体制改革
C. 全面推进改革开放
D. 全面推进依法治国

42. “革命领袖是人不是神, 尽管他们拥有很高的理论水平, 丰富的斗争经验, 卓越的领导才能, 但这并不意味着他们的认识和行动可以不受时代条件限制。不能因为他们伟大就把他们像神那样顶礼膜拜, 而不容许提出并纠正他们的失误和错误; 也不能因为他们有失误和错误就全盘否定, 抹杀他们的历史功绩, 陷入虚无主义的泥潭。”从历史唯物主义角度, 这段话主要体现了:

- A. 人民群众是历史的创造者
B. 杰出人物的作用离不开时代的局限
C. 杰出人物对历史发展具有加速作用
D. 社会历史发展是无数人合力的结果
43. 绝对剩余价值的产生是:
A. 在工作日不变的条件下缩短必要劳动时间取得的
B. 以社会劳动生产率普遍提高为前提的
C. 各个资本家追求超额剩余价值的必然结果
D. 在必要劳动时间不变的条件下延长工作日取得的

44. 微型计算机硬件系统中最核心的部件是:
A. 主板
B. I/O 设备
C. 内存储器
D. CPU
45. 在 20 世纪量子力学发展过程中做出杰出贡献的物理学家, 不包括:
A. 薛定谔
B. 狄拉克
C. 玻尔
D. 牛顿

46. 关于中国共产党历史上的重要会议, 下列说法不正确的是:
A. 古田会议: 解决了建设新型人民军队问题
B. 遵义会议: 纠正“左倾”的军事路线
C. 洛川会议: 决定北上抗日的总方针
D. 瓦窑堡会议: 确定建立抗日民族统一战线的方针政策

47. 《孙子兵法》中的“将之五德”具体是指:
A. 仁、义、勇、智、信
B. 仁、义、礼、智、信
C. 智、德、仁、勇、严
D. 智、信、仁、勇、严

48. 聘用单位应当将文职人员培训纳入本单位人员培训规划计划, 统一组织实施。文职人员培训包括岗前培训、在职培训、_____。

- A. 专业培训和政治教育
B. 专业培训和军事训练
C. 军事训练和政治教育
D. 军事训练和技能培训

49. 计算机硬件能直接识别并执行的语言是:
A. 机器语言
B. 高级语言
C. 模拟语言
D. 符号语言

50. 下列关于云计算的说法错误的是:
A. 云计算通过网络处理数据
B. 搜寻引擎是云计算在网络服务中的运用
C. 执行云计算的服务器为虚拟网络系统
D. 许多跨国信息技术行业的公司正在使用云计算的概念销售自己的产品和服务

二、多项选择题 (请根据题目要求, 在五个选项中选出两个或两个以上恰当的答案。)

51. 价值规律在商品经济中的作用主要表现在:



- A. 自发调节社会总劳动在社会各生产部门之间分配的比例
 - B. 刺激商品生产者改进技术, 提高劳动生产率
 - C. 促使商品生产者在市场竞争中实现优胜劣汰
 - D. 将商品生产者的社会劳动转化为私人劳动
 - E. 将商品价值转化为价格
52. 防火墙技术包括:
- A. 安全符号
 - B. 网络级防火墙
 - C. 应用级网关
 - E. 电路级网关
53. 我国社会保障体系的基本内容包括:
- A. 社会救助
 - B. 社会福利
 - C. 社会保险
 - D. 社会捐赠
 - E. 社会优抚
54. 邓小平关于社会主义市场经济理论的论述, 下列选项正确的有:
- A. 市场经济有利于促进生产力的发展
 - B. 市场经济具有社会主义制度的属性
 - C. 市场经济是资源配置的一种方式
 - D. 市场经济可以与公有制相结合
 - E. 市场经济是资源配置的唯一方式
55. 根据我国《国防法》的规定, 中央军事委员会行使的职权包括:
- A. 统一指挥全国武装力量
 - B. 决定军事战略和武装力量的作战方针
 - C. 根据宪法和法律, 制定军事法规, 发布决定和命令
 - D. 编制国防建设发展规划和计划
 - E. 会同国务院管理国防经费和国防资产
56. 根据我国相关法律规定, 劳动者享有的权利包括:
- A. 享有平等就业和选择职业的权利
 - B. 执行劳动安全卫生规程
 - C. 取得劳动报酬权
 - D. 休息休假的权利
 - E. 接受职业技能培训的权利
57. 贯穿于马克思主义中国化理论成果始终的是实事求是。“实事求是”_____。
- A. 是毛泽东思想的精髓, 毛泽东思想的出发点、根本点
 - B. 是中国共产党根本的政治路线和组织路线
 - C. 是中国共产党始终坚持的马克思主义思想路线
 - D. 是中国共产党的组织原则
 - E. 是毛泽东思想活的灵魂三个方面最具特点、最根本的原则
58. 国防观念的内容包括:
- A. 国防忧患意识、国防目标意识
 - B. 国防价值意识
 - C. 国防战略意识
 - D. 国防责任意识、国防法制意识
 - E. 国防献身意识
59. 互联网泄密风险严重威胁军队安全, 下列属于军队单位计算机连接国际互联网的管理规定的有:
- A. 严禁涉密计算机安装、使用无线上网卡



- B. 严禁涉密计算机开通红外、蓝牙等无线联接、传递功能
 - C. 严禁计算机联接国际互联网
 - D. 严禁在联接国际互联网的计算机上使用曾经涉密的移动存储载体
 - E. 严禁将使用无线上网卡的私人计算机带入涉密场所
60. 习近平主席指出, 建设一支____的人民军队是党在新形势下的强军目标。
- A. 英勇善战
 - B. 听党指挥
 - C. 能打胜仗
 - D. 作风优良
 - E. 服务人民

第二部分 岗位能力

一、言语理解与表达 (请根据题目要求, 在四个选项中选出一个最恰当的答案。)

61. 中国在全球奢侈品市场的地位已____, 各大奢侈品牌纷纷增资加码是____的举措。填入划横线部分最恰当的一项是:

- A. 首屈一指 顺理成章
- B. 今非昔比 天经地义
- C. 举足轻重 理所当然
- D. 无与伦比 水到渠成

62. 下列各句中, 没有语病的一句是:

A. 金乌炭雕工艺精湛, 采用纯天然颜料着色, 具有高雅、时尚、个性的艺术享受, 还能吸附有毒有害气体, 是一种环保艺术品。

B. 中俄两国元首在致辞中一致表示, 要以举办“国家年”为契机, 增进两国人民的相互了解和友谊, 深化两国各领域的交流合作。

C. 该县认真实施“村村通”这一全省规划的八件实事之一, 到10月底, 在全地区率先解决了农村百姓听广播看电视难的问题。

D. 听说博士村官潘汪聪要给大家讲农技课, 大家兴致很高, 还没到时间, 村委会会议室就挤满了很多村民来听课, 场面好不热闹。

63. 延迟退休的政策信号一经释放, 立刻在全社会引发巨大反响, 一时之间, _____, 反对之声_____。虽然延迟退休有益于减缓养老金不适的压力, 也符合国际潮流, 但遭到如此多的质疑和反对却是_____的, 其背后的原因值得决策者深思。

填入划横线部分最恰当的一项是:

- A. 群情激奋 甚嚣尘上 始料未及
- B. 群情激奋 此起彼伏 超乎想象
- C. 群情鼎沸 甚嚣尘上 超乎想象
- D. 群情鼎沸 此起彼伏 始料未及

64. 孔子作为儒家的创始人, 奠定了儒家理想的基本格局。孔子理想人格的基本内容是“礼”和“仁”。“礼”是外在的行为规范, “仁”是内在的精神原则。_____。

填入划横线部分最恰当的一项是:

- A. 孔子发展了前人的学说, 把礼和仁统一起来了
- B. 孔子认为礼和仁是区分圣贤的根本标志
- C. 孔子把礼视为立身之本, 并用仁来补充规定礼
- D. 孔子的理想人格就是内仁外礼的“仁——礼”理想人格

65. 影响电子书走向大众的, 还是在于传统阅读习惯。手指翻过书页, 会有自由的感受, 电子书则是冰冷之物。传统书籍的阅读体验, 是不可能_____的。不过, 人的生存压力越来越大, 很难陷入长久阅读, 多是快餐、零碎式的浏览。电子书倒能填补这种零碎的时间, 在_____中打发时间。



填入划横线部分最恰当的一项是:

- A. 模仿 轻描淡写 B. 复制 删繁就简
C. 效法 浅尝辄止 D. 移植 浮光掠影

66. 中国的汉字书法是一门从具象出发, 而兼及想象和抽象的综合性视觉艺术。它给予人们的美感不仅是惊世骇俗的崇高, 不仅是叹为观止的和谐, 不仅是忘乎所以的自由, 而是集崇高、和谐、自由于一体的温柔敦厚、安定平和、淡泊隽永。如同汉字的贵族气, 书法艺术也深深染有贵族气, 或言精英气更恰当。不过, 这种贵族气(或精英气)在不知不觉之间也极易变成令人不堪容忍的庸人气。在这里, 高雅与低俗, 往往在乎人。正因此, 中国书法艺术有别于雕塑、绘画、音乐等再现自然美感的艺术, 而是具有浓厚的人性美感自我表现意味的艺术。

文中划横线处正确的文字顺序是:

- ①书法艺术的品味紧紧与文品、人品关联。
②味道固然离不开作品, 但也不无与作者的人品、文品具有难以言传的千丝万缕的牵连。
③一幅好的书法作品值得人们欣赏的是它的艺术品味、风味和韵味, 或简言之味道。
④纵览古来的书法名家, 很少有仅仅以书技名世者。钟张二王、欧虞颜柳、苏黄米蔡、赵董文祝, 没有一个是仅仅擅长书技的平民, 他们不是朝廷的名臣, 便是文坛的健将。

- A. ②①④③ B. ③②④①
C. ④③②① D. ④①③②

67. 英国广播公司用“史无前例”这个词强调舰载机起降对于中国的意义。《法国西部》称, 这真令人震惊, 歼-15 货真价实地完成了在航母上的起降。德国《柏林日报》称, 中国首艘航母就像一座中国的“浮动军事大学”, 很多技术都是中国自己研发的。军事专家称, 舰载机成功起降标志着_____。

填入划横线部分最恰当的一项是:

- A. “辽宁舰”完成了重要的实训任务
B. “辽宁舰”完成了重要的转型
C. “辽宁舰”变身为一艘真正的航母
D. “辽宁舰”变身为一艘货真价实的战舰

68. 在新一轮没有硝烟的经济战场上, 经济增长将主要依靠科技进步。而解剖中国科技创新结构, 可以看出, 在中国并不缺乏研究型大学、国家实验室, 最缺乏的是企业参与的研究基地以及研究型企业。企业资助、共建、独资创立的科研机构。像美国的贝尔实验室, 就是这种研究基地。

这段文字的主旨是:

- A. 要充分发挥企业在科技创新中的重要作用
B. 中国不缺乏研究型大学, 缺乏的是研究型企业
C. 加强企业参与的研究基地建设是中国经济腾飞的必然之路
D. 企业资助、共建、独资创立的科研机构是提高企业效益的关键

69. 在古代, 每逢战乱, 手艺人都会成为战争双方争夺的对象, 这是因为手艺人掌握着传统社会中最重要的技术, 他们代表着当时最先进的社会生产力。如今, 尽管现代科学技术取代了手工技能, 成为当今时代最强大的生产力, 但传统工艺完全可以借助现代科技而提升, 继续服务于大众。

这段文意在说明:

- A. 与现代科技联姻是传统工艺发展的有效途径
B. 任何时代, 社会发展的第一要素是社会生产力
C. 现代科技的进步对传统手工艺产生的深远影响



D. 现代科技可以解决制约着生产的传统工艺难题

70. 依次填入下列各句划横线处的词语, 恰当的一组是:

①总参谋长房峰辉在记者会上____指出, 中国维护本国主权领土完整以及国土安全坚定不移, 老祖宗留下来的土地一寸都不能丢。

②尽管这只是一次____, 但民警与保安的迅速出击, 表明本市第一个进入校园的电子保安报警系统已经成功地开通了。

③用歪曲事实的历史教科书作为教材, 必然____日本年轻一代对本国历史的认识偏离事实。

A. 庄重 演练 引导

B. 郑重 演示 引导

C. 郑重 演练 导致

D. 庄重 演示 导致

71. 人类会在未来几十年里经历越来越多的气候变化影响, 备受困扰。这些影响包括极端天气____如非典型洪水____反复出现的旱灾____新出现的滑坡现象以及不正常的飓风与气旋运行轨迹____另外, 珊瑚礁褪色, 深林死亡以及新的虫害也会发生。

填入划横线处最恰当的标点符号是:

A. 、 、 、 。

B. , , , 。

C. , , 、 。

D. 、 , , 。

72. 王国维《人间词话》云: “有有我之境, 有无我之境。‘泪眼问花花不语, 乱红飞过秋千去。’ ‘可堪孤馆闭春寒, 杜鹃声里斜阳暮。’ ____也。‘采菊东篱下, 悠然见南山。’ ‘寒波澹澹起, 白鸟悠悠下。’ ____也。有我之境, ____, 故物我皆著我之色彩。无我之境, ____, 故不知何者为我, 何者为物。古人为词, 写有我之境者为多, 然未始不能写无我之境, 此在豪杰之士能自树立耳。” 在上述文字划横线处依次填入下列词语, 排列正确的是:

① 有我之境 ② 无我之境 ③ 以物观物 ④ 以我观物

A. ①②③④

B. ①②④③

C. ②①③④

D. ②①④③

73. 时代的伟人是能把这个时代意志表达出来的人, 告诉这个时代什么是这个时代的意志, 并实现这个意志。他所做的一切是这个时代的核心与本质, 他把这个时代现实化了。

上述语段中的划线处“他”指代:

A. 时代的意志

B. 时代

C. 意志

D. 时代的伟人

74. 下面两句话所表达的意思完全相同的一组是:

A. ①食堂卖的饭, 四两和二两一样多。②食堂卖的饭, 二两和四两一样多。

B. ①办完事, 他花了一个小时才到家。②办完事, 他到家才花了一个小时。

C. ①这段路, 一般不发生重大交通事故。②重大交通事故, 一般不发生在这段路上。

D. ①路挺滑, 我差点儿没摔倒。②路挺滑, 我差点儿摔倒了。

75. 海洋是资源的宝库, 但海洋活动也容易引发争端。目前, 我国在海洋执法权方面政出多门。海洋执法权分别由海监、渔政、海关、海事、边防武警等多个部门行使, 无法在海洋执法方面形成合力。一旦在我国海洋上发生纠纷, 无法快速有效解决问题。我国应该借鉴日本的海上保安厅、美国的海岸警卫队等有益经验, 把海洋执法部门由多个部门统一为单一机构, 或者由各部门统一进行联合执法。这对于有效解决海洋执法中的冲突与纠纷, 有非常重要的促进作用。

适合上述语段的标题是:

A. 应不断强化公安边防部队在国家边防安全体系中的职能作用

B. 我国应该统一海上执法权

C. 我国边海防建设需要加强统一管理力度



D. 中国边海防体制改革的几个方向

二、数量关系 (请根据题目要求, 在四个选项中选出一个最恰当的答案。)

76. 请选择你认为最合理的一项, 来填充所给数表的空缺项, 使之符合原数表的排列规律:

2	20	56
6	30	72
12	42	?

A. 80 B. 81 C. 90 D. 89

77. 前 100 个既能被 2 整除又能被 3 整除的整数之和为:

A. 30296 B. 30300
C. 30312 D. 30306

78. 单独完成了某项工程, 甲、乙、丙三人分别需 10 小时、15 小时、20 小时, 开始三人一起干, 后因工作需要, 甲中途调走了, 结果共用了 6 小时完成了这项工作。那么, 甲实际工作了____小时。

A. 2 B. 4 C. 5 D. 3

79. 榨汁机均匀地向一只大桶注入果汁, 同时有 24 根相同的过滤管排出果汁, 若不计杂质, 6 小时即可把桶中的果汁排干; 若改用 21 根过滤管, 8 小时可将桶中的果汁排干。现用 16 根过滤管, ____小时可将桶中的果汁排干。

A. 17 B. 19 C. 18 D. 20

80. 今年儿子的年龄既是妈妈年龄的 $\frac{1}{5}$, 也是父母年龄之差。两年后儿子的年龄将是父亲年龄的 $\frac{1}{5}$ 。则父亲今年是____岁。

A. 24 B. 26 C. 30 D. 28

81. 小李 2007 年买的一套房子现在价格上涨了 80%。因工作调动到另一城市, 小李把房子按现价的九折卖掉。扣除成交价 5% 的交易费用后, 比买房时赚了 26.95 万元。那么, 小李买房子花了____万元。

A. 53.9 B. 42.95
C. 50 D. 100

82. 请选择你认为最合理的一项, 来填充所给数列的空缺项, 使之符合原数列的排列规律: $1\frac{1}{9}, 4\frac{5}{12}, 9\frac{7}{13}, 16\frac{3}{8}, 25\frac{9}{13}, \underline{\hspace{2cm}}$.

A. $35\frac{4}{5}$ B. $36\frac{4}{5}$
C. $36\frac{2}{5}$ D. $34\frac{2}{5}$

83. 请选择你认为最合理的一项, 来填充所给数列的空缺项, 使之符合原数列的排列规律: 1, 4, 27, 256, _____, 46656

A. 625 B. 1296
C. 3125 D. 3750

84. 某班有战士 7 人, 每两人一组, 轮流放哨, 每 2 个小时换班一次, 某两人第一次一同放哨开始, 到下次这两人再一同放哨, 最长需要____个小时。

A. 21 B. 12 C. 24 D. 42

85. 小王和小赵分别从甲、乙两地同时出发相向而行。相遇后继续前行, 小王又经过 1



小时到达乙地, 小赵又经过 9 小时到达甲地。那么, 小王走完全程用了____个小时。

- A. 4
- B. 3
- C. 9
- D. 12

三、判断推理 (请根据题目要求, 在四个选项中选出一个最恰当的答案。)

86. 三段论推理是由两个直言判断作为前提和一个直言判断作为结论而构成的推理, 其中只包含三个不同的项, 简言之: 如果所有的 M 属于 P, 所有的 s 属于 M, 则所有的 s 属于 P。

根据以上定义, 下列推理属于三段论的是:

- A. 菊花是花, 所以野菊花也是花。
- B. 所有的动物都会死, 马是动物, 所以马会死。
- C. 他不是老师, 老师都有教师资格证, 所以他没有教师资格证。
- D. 如果要想身体健康, 就要加强锻炼, 所以加强锻炼就会身体健康。

87. (1) 淮海战役 (2) 偷袭珍珠港 (3) 平型关大捷 (4) 辽沈战役 (5) 抗美援朝, 按事件发生的时间顺序排列, 正确的是:

- A. (3) - (2) - (4) - (1) - (5)
- B. (2) - (3) - (4) - (1) - (5)
- C. (3) - (2) - (5) - (4) - (1)
- D. (3) - (2) - (1) - (4) - (5)

88. 角色混同, 是指将自己所具有的不同角色相混淆, 而发生的导致背离角色期待和角色规范的行为。

根据上述定义, 下列属于角色混同的是:

- A. 李主任对儿子寄予厚望, 对自己单位的青年骨干小王也十分器重, 常常将儿子想象成小王, 又常常将小王想象成自己的儿子
- B. 小孙是个戏剧票友, 戏剧中经常扮演王子, 有时候甚至自己不知道自己究竟是自己还是王子
- C. 农村青年张某进城后学得一口流利的普通话。春节回家过年, 还是说起家乡话
- D. 小强是某公司大楼保安, 他严格执行“凭牌进入”制度, 任何人没有公司发的工作牌不得进入大楼, 有时休息日, 同事去他家串门, 小强开门后也常会不自觉的问“有工作牌吗?” 为此没少受到同事和妻子的嘲笑

89. 甲、乙、丙、丁四人进行围棋比赛, 每人都要与其他三人各赛一盘。比赛在两张棋盘上同时进行, 每天每人只赛一盘。第一天甲与丙比赛, 第二天丙与丁比赛, 第三天乙与比赛。

- A. 甲
- B. 乙
- C. 丙
- D. 丁

90. 微不足道: 举足轻重

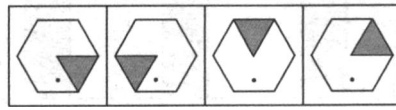
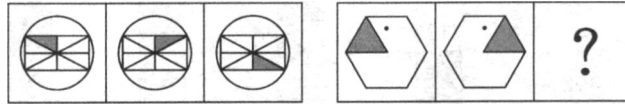
- A. 势均力敌: 众寡悬殊
- B. 诚惶诚恐: 坐卧不宁
- C. 精神抖擞: 神采飞扬
- D. 后来居上: 后发先至

91. 甲、乙、丙、丁四人中有一个是医生, 甲说: “丁是医生。” 乙说: “我不是医生。” 丙说: “甲是医生。” 丁说: “甲胡说。”

已知他们当中只有一个人说假话, 那么____是医生。

- A. 乙
- B. 甲
- C. 丙
- D. 丁

92. 从所给的四个选项中选择最合适的一个填入问号处, 使之呈现一定的规律性:



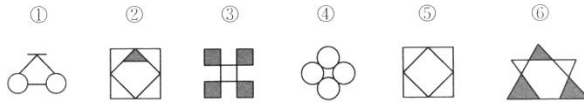
A

B

C

D

93. 把下面六个图形分为两类, 使每一类图形都有各自的共同特征和规律, 分类正确的一项是:



A . ①③④, ②⑤⑥

B . ①④⑥, ②③⑤

C . ①③⑤, ②④⑥

D . ①②⑥, ③④⑤

94. 甲、乙、丙、丁四人的职业是: 教师、医生、设计师、演员。其中,

- (1) 甲不是教师, 也不是演员。
- (2) 乙不是设计师, 也不是教师。
- (3) 如果甲不是设计师, 那么丁不是教师。
- (4) 丙不是演员, 也不是教师。

根据以上陈述, 可知下列哪项为真?

A . 甲是设计师, 乙是医生

B . 丙是教师, 丁是演员

C . 甲是设计师, 丁是医生

D . 乙是演员, 丙是医生

95. 快递公司的服务范围是衡量快递公司竞争能力的最重要因素, 也是快递企业提供快递服务的物质基础。服务范围决定了快递公司快件所能到达的服务区域。对客户来说, 快递公司能够提供的服务范围当然是越大越好。

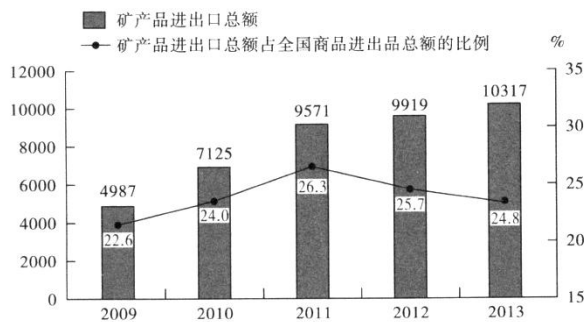
以下哪项如果为真, 不能支持上述判断?

- A . 许多服务范围小的快递公司在激烈的市场竞争下举步维艰
- B . 划分为省内和省外快件以后, 快递公司主要计重收费, 且不计距收费
- C . 大中型客户的业务范围往往非常广泛, 覆盖全国各地
- D . 服务网络覆盖面广的快递公司, 其营业总额超过国内市场总额的 40%

四、资料分析 (请根据题目要求, 在四个选项中选出一个最恰当的答案。)

材料一: (根据所给图表资料回答下列问题)

2009~2013 年我国矿产品进出口贸易额变化情况



96. (缺)

97. 如果按照 2013 年矿产品进出口总额的年增长速度计算, 2015 年我国矿产品进出口



总额约为_____亿美元。

- A . 10730
- B . 11110
- C . 11160
- D . 11140

材料二：9 根据所给图表资料回答下列问题)

三大战役国民党军伤亡情况表

	参战兵力	毙伤	俘虏	反正及投诚	改编或起义	战损小计
辽沈战役	550000	56800	324300	64900	26000	472000
平津战役	521000	29790	232510	8700	250000	521000
淮海战役	800000	171151	320355	35093	28500	555099

三大战役解放军伤亡情况表

	参战兵力	阵亡	伤	失踪	战损小计
辽沈战役	700000	14009	53328	1874	69211
平津战役	1000000	7030	31478	11752	50260
淮海战役	600000	25954	98818	936	125708

98. 三大战役国民党军合计损失约___万人。

- A . 187
- B . 230
- C . 155
- D . 25

99. 以各军兵力战损数量为判断依据, 三大战役激烈度最强的是:

- A . 辽沈战役
- B . 平津战役
- C . 差不多
- D . 淮海战役

100. 平津战役敌我战损对比为:

- A . 1:6. 82
- B . 1:10. 37
- C . 10. 37:1
- D . 6. 82: 1

101. 淮海战役解放军战损率为:

- A . 21%
- B . 5%
- C. 9%
- D . 10. 7%

102. 一般而言, 反正、投诚、改编或起义数量占国民党战损数量百分比反映了我军战时政治工作的成绩。百分比越大, 政治工作成绩越突出。三大战役中, 我军政治工作成绩最突出的是:

- A . 辽沈战役
- B. 淮海战役
- C . 差不多
- D. 平津战役

材料三：(根据所给文字资料回答下列问题)

根据十二届全国人大二次会议审查的预算草案, 2014 年我国国防预算约为 8082. 3 亿元人民币, 比上年增长 12. 2%。2014 年美军军费 6290 亿美元(1 美元=6. 1400 人民币元), 占国民生产总值的 4%, 而我国只有约 1. 5%, 远低于美国的 4%从 1991 年到 2013 年, 世界各国军费开支占全球 G D P 总额的平均水平为 2. 6%, 而我国仅为 1. 208%。

103. 2013 年我国国防费大约为___亿元人民币。

- A . 7203. 5
- B . 8082. 3
- C . 9068. 3
- D . 6290

104. 据测算, 2014 年我国 G D P 大约___亿元人民币。

- A . 63143
- B. 631430
- C . 53882
- D. 538820

105. 据测算, 2014 年美国军费大约为___亿元人民币。

- A. 38626
- B. 38621



C. 38606

D. 38616

106. 2014 年美国国民生产总值与中国国民生产总值的比值是:

A . 1. 79:1

B . 0. 79:1

C . 1:0. 79

D . 1:1. 79

107. 如果 2014 年我军人均国防费为 5.6 万美元, 按此数据测算, 我国有____万军人。

A . 240

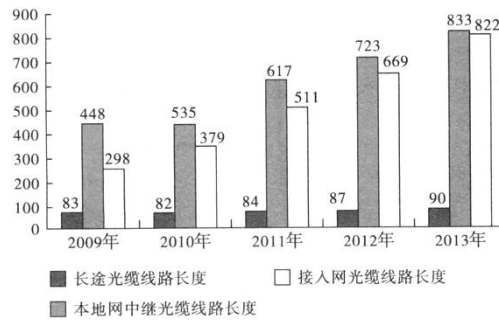
B . 230

C . 235

D . 225

材料四: (根据所给图表资料回答下列问题)

2009~2013 年我国各种光缆线路长度对比情况(万公里)



108. 2010~2013 年我国本地网中继光缆线路长度变化最小的一年是:

A . 2011 年

B . 2010 年

C . 2012 年

D . 2013 年

109. 2013 年我国接入网光缆线路占光缆线路总长度的比重与 2009 年相比上升了____个百分点。

A . 31

B . 36

C . 47

D . 11

110. 根据资料, 下列表述中正确的一项是:

A . 2009~2013 年我国光缆线路总长度增幅一直呈上升趋势

B . 2009~2013 年我国长途光缆线路长度一直呈上升趋势

C . 2009~2013 年我国接入网光缆线路占光缆线路总长度的比重一直呈上升趋势

D . 2013 年我国本地网中继光缆与接入网光缆线路长度之和大约是长途光缆线路长度的 20 倍



参考答案及解析

第一部分 公共知识

一、单项选择题

1. C [解析]法有强制性、普遍性、国家意志性、规范性等特征。强制性是指法是由国家强制力保证实施的;普遍性是指法在国家权力管辖范围内是普遍有效的;国家意志性是指法律由国家制定或认可,体现国家对人们行为的评价;规范性是指法是调整人们的行为或者社会关系的规范。故本题答案选 C。

2. B [解析]货币是商品经济发展的产物。在商品交换中要实行等价交换的原则,为此就必须衡量商品的价值量。通常是用一种商品价值来表现另一种商品的价值,这就是价值形式。货币正是价值形式演变的结果。因此,货币是商品内在矛盾发展的必然产物。故本题答案选 B。

3. A [解析]我国《军队文职人员管理规定》第 43 条规定,文职人员履行岗位职责时,应当着军队统一式样的文职人员服装,佩带文职人员胸标。故本题答案选 A。

4. C [解析]我国《中国人民解放军文职人员条例》第 4 条规定,文职人员的聘用和管理,应当贯彻尊重劳动、尊重知识、尊重人才、尊重创造的方针,坚持任人唯贤、德才兼备、公平择优的原则。故本题答案选 C。(备注:本条已经在《中国人民解放军文职人员条例(2017 年修订本)》中改为第 3 条,文职人员的管理,坚持党管干部,党管人才原则,贯彻公开、平等、竞争、择优方针,依照法定的权限、条件、标准和程序进行。)

5. C [解析]无因管理是指没有法定或者约定义务,为避免造成损失(损失即包括自己也包括他人,或者仅为他人),主动管理他人事务或为他人提供服务的行为。由此定义可以判定,只有 C 项属于无因管理。A B D 项中的双方均有法定或约定的义务关系,不属于无因管理。故本题答案选 C。

6. A [解析]十八届三中全会提出,使市场在资源配置中起决定性作用和更好发挥政府作用。故本题答案选 A。

7. A [解析]马克思主义政治经济学的研究对象是社会生产关系及其发展规律。故本题答案选 A。

8. B [解析]我国《继承法》第 7 条规定,继承人有下列行为之一的,丧失继承权:(一)故意杀害被继承人的;(二)为争夺遗产而杀害其他继承人的;(三)遗弃被继承人的,或者虐待被继承人情节严重的;(四)伪造、篡改或者销毁遗嘱,情节严重的。故本题答案选 B。

9. B [解析]党的十七大报告指出,中国特色社会主义道路之所以完全正确、之所以能够引领中国发展进步,关键在于我们既坚持了科学社会主义的基本原则,又根据我国实际和时代特征赋予其鲜明的中国特色。故本题答案选 B。

10. A [解析]社会公德是指存在于社会群体中间的道德,是生活于社会中的人们为了我们群体的利益而约定俗成的我们应该做什么和不应该做什么的行为规范。在本质上是一个国家,一个民族或者一个群体,在历史长河中、在社会实践活动中积淀下来的道德准则,文化观念和思想传统。它对维系社会公共生活和调整人与人之间的关系具有重要作用,故选择 A。

11. B [解析]人均水资源量是衡量国家可利用水资源的程度指标之一。中国人均水资源量指中国可以利用的淡水资源平均到每个人的占有量。据 2012 年的统计,中国人均水资源量只有 2100 立方米,仅为世界人均水平的 28%。目前全国城市中有约三分之二缺水,约四分之一严重缺水。故选择 B。

12. D [解析]党的十八大报告指出,要完善互利共赢、多元平衡、安全高效的开放型经



济体系。故本题答案选 D。

13. B [解析] “物必先腐, 而后虫生。”这句话的意思是事物一定是先腐败之后才会生虫, 体现的是内因与外因的辩证关系原理, 内因是事物变化发展的根本原因, 也是第一位原因。故本题答案选 B。

14. D [解析] 在社会主义市场经济体制中, 衡量公有制主体地位的标准主要有: 公有制资产是否在社会总资产中占优势, 国有经济是否控制国民经济命脉, 国有经济是否对整体经济发展起主导作用。在所有领域和行业中的量的优势并不能衡量公有制是否占主体地位, D 项错误。故本题答案选 D。

15. C [解析] 我国《刑法》第 13 条规定, 一切危害国家主权、领土完整和安全, 分裂国家、颠覆人民民主专政的政权和推翻社会主义制度, 破坏社会秩序和经济秩序, 侵犯国有财产或者劳动群众集体所有的财产, 侵犯公民私人所有的财产, 侵犯公民的人身权利、民主权利和其他权利, 以及其他危害社会的行为, 依照法律应当受刑罚处罚的, 都是犯罪, 但是情节显著轻微危害不大的, 不认为是犯罪。由此规定可知, 危害社会的行为是任何犯罪都必须具备的条件。故本题答案选 C。

16. A [解析] 要始终坚持一个中国原则, 核心是维护国家领土和主权完整。故本题答案选 A。

17. A [解析] 自然人的民事权利能力是指自然人依法取得享有民事权利、承担民事义务的资格; 自然人的民事行为能力是指自然人以自己的行为取得民事权利、承担民事义务的资格, 即自然人依法独立进行民事活动的资格; 完全民事行为能力是指可完全独立地进行民事活动, 通过自己的行为取得民事权利和承担民事义务的资格; 民事法律行为是指公民或法人以设立、变更、终止民事权利和民事义务为目的的具有法律约束力的合法民事行为。故本题答案选 A。

18. A [解析] 中国社会半封建半殖民地的性质决定了社会的主要矛盾是帝国主义同中华民族的矛盾、封建主义同人民大众的矛盾。B 项错误。从鸦片战争开始, 中国的社会性质发生了变化, 中日甲午战争及以后的一系列战争与丧权辱国的条约没有改变半封建半殖民地的社会性质。C 项错误。打倒帝国主义和封建主义是近代中国革命的根本任务。D 项错误。毛泽东同志曾说: “认清中国的国情, 乃是认清一切革命问题的根据。”要解决社会主义现代化建设中的问题, 也必须认清当代中国的国情。故本题答案选 A。

19. C [解析] 劳动生产率和单位时间内生产商品的数量成正比。故本题答案选 C。

20. B [解析] 资本主义的工资在表面上表现为劳动的价值和价格, 但其本质是劳动力价值或价格的转化形式。故本题答案选 B。

21. B [解析] 垄断高价是指垄断资本在出售自己产品时规定的超过商品价值和生产价格的垄断价格。垄断高价并不违背价值规律, 垄断组织通过垄断高价获取的垄断利润, 只是其他商品生产者所失去的价值部分, 社会商品价格总额与价值总额还是相等的。故本题答案选 B。

22. B [解析] 种群指在一定时间内占据一定空间的同种生物的所有个体。种群中的个体并不是机械地集合在一起, 而是彼此可以交配, 并通过繁殖将各自的基因传给后代。种群是进化的基本单位, 同一种群的所有生物共用一个基因库。对种群的研究主要是其数量变化与种内关系, 种间关系的内容已属于生物群落的研究范畴。故选择 B。

23. C [解析] 实事求是, 群众路线, 独立自主, 是毛泽东思想活的灵魂的三个方面。题中这句话体现的是独立自主的方面。故本题答案选 C。

24. A [解析] 习近平同志强调, 要始终坚持战斗力这个唯一的根本的标准, 全部心思向打仗聚焦, 各项工作向打仗用劲。故本题答案选 A。

25. D [解析] 《中国人民解放军保密条例》第 23 条规定, 军事设施和其他涉密场所、部



位, 应当采取有效的保密防护措施, 未经有相应批准权限的机关批准, 不得对外开放。第 22 条规定, 在有线、无线通信中传递军事秘密, 必须根据其密级采取相应的保密措施。第 12 条规定, 对是否属于军事秘密和属于何等密级不明确的事项, 依照下列权限确定: 秘密级由团级以上单位确定; 机密级由师级以上单位确定; 绝密级由军级以上单位确定。第 8 条规定, 武装力量的组织编制, 部队的任务、实力、素质、状态等基本情况, 军以下部队及特殊单位的番号属于军事机密。A B C 三项正确, D 项错误。故本题答案选 D。

26. C [解析]我国《军队文职人员管理规定》第 66 条规定, 文职人员获得一等功以上奖励的, 可以增加两级薪级工资, 提前一年晋升一级岗位等级; 获得二等功或者三次三等功奖励的, 可以增加一级薪级工资; 获得三等功以上奖励的, 合同期满后可以优先续聘。故本题答案选 C。

27. B [解析]我国《国防法》第 50 条规定, 依照法律服兵役和参加民兵组织是中华人民共和国公民的光荣义务。故本题答案选 B。

28. A [解析]1998 年 7 月发表的《中国的国防》白皮书中对军事立法权限进行了阐释: 全国人大及其常委会制定国防和军队建设的法律。故本题答案选 A。

29. D [解析]中华人民共和国武装力量属于人民, 受中国共产党领导, 其任务是巩固国防, 抵抗侵略, 保卫祖国, 保卫人民的和平劳动, 参加国家建设事业, 全心全意为人民服务。故本题答案选 D。

30. D [解析]核裂变, 又称核分裂, 是指由重的原子核 (主要是指铀核或钚核) 分裂成两个或多个质量较小的原子的一种核反应形式。原子弹或核能发电厂的能量来源就是核裂变。其中铀裂变在核电厂最常见, 热中子轰击铀-235 原子后会放出 2 到 4 个中子, 中子再去撞击其它铀-235 原子, 从而形成链式反应。故选择 D。

31. D [解析]文明冲突论的创始人是美国著名学者塞缪尔·亨廷顿。故本题答案选 D。

32. C [解析]始终代表最广大劳动人民的根本利益, 这是马克思主义最鲜明的政治立场。故本题答案选 C。

33. B [解析]我国《国防法》第 4 条规定, 国家独立自主、自力更生地建设和巩固国防, 实行积极防御战略, 坚持全民自卫原则。故本题答案选 B。

34. A [解析]我国《劳动合同法》第 79 条规定, 任何组织或者个人对违反本法的行为都有权举报, 县级以上人民政府劳动行政部门应当及时核实、处理, 并对举报有功人员给予奖励。故本题答案选 A。

35. A [解析]三个有利于, 指的是: 是否有利于发展社会主义社会的生产力、是否有利于增强社会主义国家的综合国力、是否有利于提高人民的生活水平。在 1992 年初由邓小平在视察南方发表南方谈话时提出, 被视为人们衡量一切工作是非得失的判断标准。故选 A。

36. B [解析]我国《合同法》第 52 条规定, 有下列情形之一的, 合同无效: (一) 一方以欺诈、胁迫的手段订立合同, 损害国家利益; (二) 恶意串通, 损害国家、集体或者第三人利益; (三) 以合法形式掩盖非法目的; (四) 损害社会公共利益; (五) 违反法律、行政法规的强制性规定。故本题答案选 B。

37. D [解析]我国《军队文职人员管理规定》第 7 条规定, 聘用到初级岗位的, 根据学历确定为十三级至十一级, 其中, 大学本科和大学专科学历的, 确定为十三级; 硕士研究生学历的, 确定为十二级; 博士研究生学历的, 确定为十一级。故本题答案选 D。

38. D [解析]广义的生产关系是指包括生产、分配、交换、消费诸关系在内的生产关系体系。故本题答案选 D。

39. D [解析]马克思根据人的发展状况把人类历史划分为三大形态, 分别是人的依赖性社会, 物的依赖性社会, 人的自由全面发展社会。故本题答案选 D。

40. B [解析]我国《著作权法》第 3 条规定, 本法所称的作品, 包括以下列形式创作的



文学、艺术和自然科学、社会科学、工程技术等作品: (一) 文字作品; (二) 口述作品; (三) 音乐、戏剧、曲艺、舞蹈、杂技艺术作品; (四) 美术、建筑作品; (五) 摄影作品; (六) 电影作品和以类似摄制电影的方法创作的作品; (七) 工程设计图、产品设计图、地图、示意图等图形作品和模型作品; (八) 计算机软件; (九) 法律、行政法规规定的其他作品。故本题答案选 B。

41. D [解析] 党十八届四中全会的主要议程是研究全研推进依法治国重大问题。这是自改革开放以来, 党的历次中央委员会全体会议中, 首次将“依法治国”作为会议的主题。故本题答案选 D。

42. B [解析] 结合题干材料, 可知杰出人物的作用离不开时代的局限。故本题答案选 B。

43. D [解析] 绝对剩余价值是指通过把工作日延长到超过必要劳动时间而生产的剩余价值。绝对剩余价值的产生是在必要劳动时间不变的条件下, 延长工作日取得的。故本题答案选 D。

44. D [解析] CPU (中央处理器) 是核心部件, 它的性能指标直接决定了计算机系统的性能指标。故本题答案选 D。

45. D [解析] 牛顿 (1643—1727 年) 是英国著名的物理学家, 百科全书式的“全才”, 著有《自然哲学的数学原理》《光学》等。他在 1687 年发表的论文《自然定律》里, 对万有引力和三大运动定律进行了描述, 这些描述奠定了此后三个世纪里物理世界的科学观点, 并成为了现代工程学的基础。A B C 三项都是量子力学发展中作出杰出贡献的代表人物。故本题答案选 D。

46. C [解析] 洛川会议是 1937 年 8 月 22 日至 25 日, 中共中央在陕北洛川召开的政治局扩大会议。会议决定把党的工作重心放在战区和敌后, 在敌后放手发动群众, 开展独立自主的游击战争, 开辟敌后战场, 建立敌后抗日根据地。在这次会议上并没有决定北上抗日的总方针。故本题答案选 C。

47. D [解析] 《孙子·计篇》中讲道: “将者, 智、信、仁、勇、严也。”此为孙子的将帅“五德”之说, 也是孙子对“将”应具备的素质的高度概括。故本题答案选 D。

48. B [解析] 我国《军队文职人员管理规定》第 35 条规定, 聘用单位应当将文职人员培训纳入本单位人员培训规划计划, 统一组织实施。文职人员培训包括岗前培训、在职培训、专业培训和军事训练。故本题答案选 B。

49. A [解析] 机器语言是用二进制代码表示的计算机能直接识别和执行的一种机器指令的集合。它是计算机的设计者通过计算机的硬件结构赋予计算机的操作功能。机器语言是计算机硬件能够识别的, 不用翻译直接供机器使用的程序设计语言, 也被称为手编语言。故本题答案选 A。

50. C [解析] 执行云计算的服务器不全是虚拟网络系统。故本题答案选 C。

二、多项选择题

51. A B C [解析] 在商品经济中, 价值规律的作用主要表现在以下三个方面: (1) 调节资源配置和经济活动。价值规律对生产资料和劳动力在社会生产各部门之间的调节是通过价格机制来实现的; (2) 刺激商品生产者改进技术、提高劳动生产率, 有利于社会生产力的发展; (3) 促使商品生产者在市场竞争中实现优胜劣汰。故本题答案选 A B C。

52. BCDE [解析] 所谓防火墙指的是一个有软件和硬件设备组合而成、在内部网和外部网之间、专用网与公网之间的边界上构造的保护屏障。防火墙是一种保护计算机网络安全的技术性措施, 它通过在网络边界上建立相应的网络通信监控系统来隔离内部和外部网络, 以阻挡来自外部的网络入侵。从实现原理上分, 防火墙的技术包括四大类: 网络级防火墙 (也叫包过滤型防火墙)、应用级网关、电路级网关和规则检查防火墙。它们之间各有所长, 具体使用哪一种或是否混合使用, 要看具体需要。故选择 BCDE。



53. ABCE[解析] 社会保障体系主要包括社会保险、社会救济、社会福利、社会优抚和社会互助等内容。社会救济和社会互助即社会救助。故本题答案选 ABCE。

54. ACD[解析] 邓小平同志关于社会主义市场经济的理论认为, 市场经济作为资源配置的一种方式本身不具有制度属性, 但是它与社会主义相结合而形成的经济体制则必须体现社会主义基本制度的特征。B 项错误。市场经济是资源配置的一种方式, 但不是唯一的方式。E 项错误。其余三项均正确。故本题答案选 ACD。

55. ABCE[解析] 我国《国防法》第 13 条规定, 中央军事委员会领导全国武装力量, 行使下列职权:

- (一) 统一指挥全国武装力量;
- (二) 决定军事战略和武装力量的作战方针;
- (三) 领导和管理中国人民解放军的建设, 制定规划、计划并组织实施;
- (四) 向全国人民代表大会或者全国人民代表大会常务委员会提出议案;
- (五) 根据宪法和法律, 制定军事法规, 发布决定和命令;
- (六) 决定中国人民解放军的体制和编制, 规定总部以及军区、军兵种和其他军区级单位的任务和职责;
- (七) 依照法律、军事法规的规定, 任免、培训、考核和奖惩武装力量成员;
- (八) 批准武装力量的武器装备体制和武器装备发展规划、计划, 协同国务院领导和管理国防科研生产;
- (九) 会同国务院管理国防经费和国防资产;
- (十) 法律规定的其他职权。

故本题答案选 ABCE。

56. ACDE[解析] 我国《劳动法》第 3 条规定, 劳动者享有平等就业和选择职业的权利、取得劳动报酬的权利、休息休假的权利、获得劳动安全卫生保护的权利、接受职业技能培训的权利、享受社会保险和福利的权利、提请劳动争议处理的权利以及法律规定的其他劳动权利。故本题答案选 ACDE。

57. ACE[解析] 群众路线是中国共产党根本的政治路线和组织路线, 民主集中制原则是中国共产党的组织原则, B、D 项错误, 其余三项均正确。故本题答案选 ACE。

58. ABDE[解析] 国防观念主要包括国防忧患意识、国防目标意识、国防价值意识、国防责任意识、国防法制意识和国防献身意识。故本题答案选 ABDE。

59. ABDE[解析] 《中国人民解放军共同条令》第 205 条规定, 军队单位和人员使用国际互联网, 应当严格遵守下列规定:

- (一) 严禁涉密计算机联接国际互联网;
- (二) 严禁涉密计算机安装、使用无线上网卡;
- (三) 严禁涉密计算机开通红外、蓝牙等无线联接、传递功能;
- (四) 严禁将使用无线上网卡的私人计算机带入涉密场所;
- (五) 严禁在联接国际互联网的计算机上使用涉密或者曾经涉密的移动存储载体;
- (六) 严禁在联接国际互联网的计算机上存储、处理或者传递涉密信息;
- (七) 严禁在联接国际互联网的计算机上存储显示军人身份的资料;
- (八) 严禁在国际互联网上发布、传播涉密信息;
- (九) 严禁计算机在军队涉密网和国际互联网之间交叉联接;
- (十) 严禁存储载体在涉密计算机和联接国际互联网的计算机之间交叉使用。

故本题答案选 ABDE。

60. BCD[解析] 习近平同志指出: “为建设一支听党指挥、能打胜仗、作风优良的人民军队而奋斗是党在新形势下的强军目标。” 故本题答案选 BCD。



第二部分 岗位能力

一、言语理解与表达

61. C[解析]第一空要填一个表示中国在全球奢侈品市场地位的成语。“首屈一指”指居第一位,引申为最好的;“无与伦比”指没有能跟它相比的。这两个成语的程度均过重,排除A、D。正因为中国在全球奢侈品市场的地位重要,各大奢侈品牌增资加码中国市场的举措才显得符合常理。“天经地义”指绝对正确、不能改变的道理,用来形容各大奢侈品牌的举措程度过重,排除B。故本题选C。

62. B[解析]A项动宾搭配不当,“具有”和“享受”不能搭配,可以把“享受”改为“特色”;C项结构混乱,可改为“‘村村通’是全省规划的八件实事之一,该县认真实施后,到10月底,在全地区率先解决了农村百姓听广播看电视难的问题”;D项语序不当,可改为“挤满了很多来听课的村民”。B项没有语病,当选。

63. D[解析]第一空,“群情激奋”侧重于“激奋”,即激动振奋;“群情鼎沸”侧重于“鼎沸”,即喧闹、混乱。结合后文大众对延迟退休政策的反对之声可知,“群情激奋”明显不合句意,排除A、B。第二空,“甚嚣尘上”多指某种言论十分嚣张,含贬义。不适合用来描述大众的反对之声,排除C。故本题选D。

64. D[解析]由“儒家理想”、“孔子理想人格”可知,文段论述的话题是“孔子的理想人格”。基于话题一致的考虑,空缺处所填句子也应与此相关。选项中只有D项相符,故当选。

65. D[解析]第二空,对应于电子书阅读“快餐、零碎式的浏览”的特点,“轻描淡写”和“删繁就简”不合句意,排除A、B。第一空,“效法”指照着别人的做法去做,与“阅读体验”不搭配,排除C。本题选D。

66. B[解析]③句以“味道”结尾,②句以“味道”开头,两句构成顶真结构,应紧密相连,排除A。④句是对②句“书法作品的味道无不与作者的人品、文品具有难以青传的千丝万缕的牵连”的进一步举例说明,故④应紧跟②之后,排除C、D。本题选B。

67. C[解析]文段为并列结构,分别阐述了三家国外媒体和军事专家对中国舰载机成功起降的评论。由“歼-15货真价实地完成了在航母上的起降”、“中国首艘航母就像一座中国的‘浮动军事大学’”可知,“航母”为文段的关键词,空缺处军事专家的评论也应与此相关,只有C项符合。且由常识可知,歼-15舰载机的成功起降,标志着中国航母在形成战斗力方面迈出了关键一步,也即“变身为一艘真正的航母”。故本题选C。

68. A[解析]文段首先说明了经济增长主要依靠科技进步,接着用“而”引出我国科技创新结构中缺乏企业参与的现状。由此可知,文段主要说明的是应充分发挥中国企业在科技创新中的作用。B项只是指出中国科技创新结构的现状,未涉及怎么做的问题,而且“缺乏的是研究型企业”的表述也不够确切,文段中说的是“最缺乏的是企业参与的研究基地以及研究型企业”;C项的“中国经济腾飞的必然之路”、D项的“提高企业效益的关键”均无法从文中得出,排除。故本题选A。

69. A[解析]文段通过对比传统手工艺在古代和如今对生产力发展的意义,指出了传统手工艺在如今继续发展的途径,即“借助现代科技而提升”。A项的“与现代科技联姻”与此意相符。B项脱离了传统手工艺的发展这一主题,排除;C、D项均未点出“借助现代科技”继续服务于大众这一核心内容。故本题答案为A。

70. C[解析]②句,“演练”指操练;“演示”指把某种东西拿出来展示、展览。由句意可知,此处应填“演练”,排除B、D。③句,“引导”侧重于指引和导向,有方向、有目标;“导致”侧重于引起不好的结果。由“认识偏离事实”可知,应填“导致”,排除A。故本题答案为C。



71. B[解析]由第一空后的“如”可知, 后文是对“极端天气”的举例说明, 二者之间非并列关系, 不能用顿号, 排除 A、D。第二空, “非典型洪水”和“反复出现的导灾”均属于“极端天气”的范畴, 二者为并列关系, 此处应用顿号, 排除 C。本题选 B。

72. B[解析]由“有我之境, 物我皆著我之色彩。无我之境……不知何者为我, 何者为物”可知, “有我之境”、“无我之境”主要是从主体的情感状态表达的显隐来区分的。“泪眼”、“孤馆”情感表达比较直白, 故属于“有我之境第一空选①, 排除 C、D。第三空, “以我观物”与“有我之境”对应, 排除 A。故本题选 B。

73. D[解析]文段的主语是“时代的伟人”, 第一句介绍什么样的人称得上时代的伟人, 第二句阐述了时代伟人对时代的意义。故此处的“他”仍指“时代的伟人”。本题选 D。

74. D[解析]A 项, ①句强调食堂的四两饭给得少, ②句强调食堂的二两饭给得多; B 项, ①句强调回家路上花的时间多, ②句强调回家路上花的时间少; C 项, ①句强调这段路相对安全, ②句强调重大交通事故发生的地点。D 项都强调路滑, 差一点摔倒。本题选 D。

75. B[解析]文段首先提出问题: 我国海洋执法权政出多门, 无法形成合力, 不利于解决纠纷。然后给出了解决措施: 借鉴日美经验, 把海洋执法部门由多个部门统一为单一机构, 或者由各部门统一进行联合执法。由此可知, 文段讨论的是“海洋执法权的统一”问题。B 项切合主题, 作为标题恰当。本题选 B。

二、数量关系

76. C[解析]按列来看。第一列 $6-2=4$, $12-6=6$, $6-4=2$, 即相邻两项分别作差, 差再相减得 2; 第二列 $30-20=10$, $42-30=12$, $12-10=2$; 故第三列有 $72-56=16$, 所以 $?-72=18$, 故 $?=90$, 故选 C。

77. B[解析]既能被 2 整除又能被 3 整除的整数即 6 的整数倍。题目要求首项为 6、公差为 6 的等差数列的前 100 项之和, 即 $(6+600) \times \frac{100}{2} = 606 \times 50 = 30300$ 。

78. D[解析]设工作总量为 60, 则甲、乙、丙的效率分别为 6、4、3。由题意可知, 乙和丙共工作 6 小时, 完成工作量 $(4+3) \times 6 = 42$, 余下工作由甲做完, 需 $\frac{60-42}{6} = 3$ 小时。

79. C[解析]牛吃草问题, 设每根过滤管每小时的排汁量为 1, 每小时注入果汁的量为 T , 所求时间为 T 。据题意 $(24-v) \times 6 = (21-v) \times 8 = (16-v) \times T$, 解得 $v=12$, $T=18$ 小时。

80. D[解析]设今年儿子为 x 岁, 则母亲为 $6x$ 岁, 两年后儿子 $x+2$ 岁, 则父亲今年为 $5(x+2)-2=5x+8$, 有 $5x+8-6x=1$, 解得: $x=4$ 。或者 $6x-(5x+8)=1$, 无解。故父亲今年 $5x+8=28$ 岁。

也可根据“两年后儿子的年龄将是父亲年龄的 $1/5$ ”得知今年父亲年龄加 2 是 5 的倍数, 直接锁定答案 D。

81. C[解析]设小李买房子花了 x 万元, 根据题意有 $1.8x \times 0.9 \times (1-5\%) - x = 26.95$, 解得 $x=50$, 故选 C。

82. 0[解析]整数部分分别是 $1^2, 2^2, 3^2, 4^2, 5^2$, 所以下一项应该是 6^2 , 排除 A、D。分数部分的分母与分子的差分别是 8, 7, 6, 5, 4, 所以下一项应该是 3。只有 C 项满足题意。

83. C[解析]给出的数字为多次方数。1 为 1^1 , 4 为 2^2 , 27 为 3^3 , 256 为 4^4 , 括号内应为 5^5 , 选择 C。

84. D[解析]要使从两人同时放哨开始到下次两人再一同放哨, 所需要的时间最长, 则需要所有可能的组合都轮一遍, 从 7 个人选 2 人, 有 $C_7^2=21$ 种组合, 每一组 2 个小时, 所以共需要 $21 \times 2 = 42$ 小时。故选 D。



85. A[解析] 设两人经过 t 小时相遇, 则 $\frac{1}{9} = \frac{1}{t}$ 解得 $t=3$, 所以小王走完全程需要 $3+1=4$ 小时。

故选 A。

三、判断推理

86. B[解析] 本题考查的是三段论的基本概念。B 选项完全符合题意。A 选项只有一个直言判断作为前提, 不符合题意; C 选项的结构是: M 不属于 P, 所有的 P 属于 s, 所以 M 不属于 s, 不符合题意; D 选项的前提不是直言判断, 不符合题意。故正确答案为 B。

87. A[解析] 淮海战役始自 1948 年 11 月 6 日, 终于 1949 年 1 月 10 日, 历时 66 天; 珍珠港事件又称珍珠港事变, 发生于 1941 年 12 月 7 日; 平型关大捷发生于 1937 年 9 月; 辽沈战役于 1948 年 9 月 12 日开始, 同年 11 月 2 日结束, 抗美援朝时间是 1950—1953 年。故正确答案为 A 选项。

88. D[解析] 角色混同的定义要点是: ①将自己所具有的不同角色相混淆; ②导致背离角色期待和角色规范。A 项李主任将儿子和单位小王的角色混淆, 不符合①。B 项小孙将自己和王子相混淆, 但是并没有背离角色期待和角色规范, 不符合②。C 项说普通话还是说家乡话, 并不是角色的混淆。D 项小强将家里主人的身份和公司的身份相混淆, 在家里问工作牌的情况背离了角色期待和角色规范。故选 D。

89. C[解析] 由题干可知第一天甲与丙比赛, 第二天丙与丁比赛。因为每人都要与其他三人各赛一盘, 每天每人只凑一盘, 则第三天丙需与乙进行比赛。故答案选 C。

90. A[解析] 微不足道指意义、价值等小得不值得一提。举足轻重指处于重要地位, 一举一动都足以影响全局, 两者是反义词。势均力敌指双方力量相等, 不分高低。众寡悬殊形容双方人力的多少相差极大。二者是反义词。其他几个选项都是近义词, 故正确答案是 A。

91. B[解析] 由题干可知, 甲和丁的话为矛盾关系, 那么说假话者一定在甲和丁当中, 则乙和丙的话均为真, 由丙的话为真可知医生为甲, 答案选 B。

92. A[解析] 每组第一个图形左右翻转得到第二个图形, 第二个图上下翻转得到第三个图形。故答案为 A。

93. D[解析] ①②⑥为轴对称图形; ③④⑤既是轴对称图形, 也是中心对称图形。故答案为 D。

94. D[解析] 由 (1) (2) (4) 可知, 甲、乙、丙都不是教师, 所以教师为丁。由 (3) 可知, 甲是设计师。再由 (4) 丙也不是演员可知, 丙应该是医生, 故乙是演员。答案为 D。

95. B[解析] 题干判断是: 快递公司服务范围越大越好。A、C、D 都说明了服务范围的重要性, 都可以支持题干判断。B 项主要计重收费, 小计距收费, 说明服务范围并不重要, 故不能支持。答案为 B。

四、资料分析

96. 缺。

97. C[解析] 2013 年的增长速度为 $\frac{10317-9919}{9919} = \frac{398}{9919} > 4$, 所求 $> 10317 \times (1+4\%)^2 > 10317 \times (1+8\%) > 10317+824=11141$, 故选 C。

98. C[解析] 由表列式为 $472000+521000+555099=1548099$ 人 ≈ 155 万人, 选 C。

99. D[解析] 观察两个表格最后一列数据可知, 淮海战役两军战损数量均大于其他两大战役, 选 D。

100. C[解析] 由表列式为 $521000:50260 \approx 10.37:1$, 选 C。

101. A[解析] 由表列式为 $\frac{125708}{600000} \approx 21\%$, 选 A。



102.D [解析] 辽沈战役 $\frac{64900+26000}{472000} = \frac{90900}{472000} \approx \frac{1}{5}$, 平津战役, 淮海战役

$\frac{35093+28500}{555099} = \frac{63593}{555099} \approx \frac{1}{9}$, 显然平津战役的比重大一些。选 D。

103.A [解析] 由“2014 年我国国防费预算约为 8082.3 亿元人民币, 比上年增长 12.2%”可得, 2013 年我国国防费为 $\frac{8082.3}{1+12.2\%} \approx \frac{8082.3}{1.12} \approx 7000$, 选 A。

104.D [解析] 由“2014 年我国国防费预算约为 8082.3 亿元人民币, 占国民生产总值的 1.5%”可得, 2014 年我国 GDP 约为 $\frac{8082.3}{1.5\%} \approx \frac{808}{15} \times 10^4 \approx 54 \times 10^4$ 亿元人民币, D 项最接近。

105.B [解析] 由“2014 年美军军费 6290 亿美元 (1 美元=6.14 人民币元)”可得 $6290 \times 6.14 \approx 38621$ 。选 B。

106.A [解析] 由“2014 年美军军费 6290 亿美元 (1 美元=6.14 人民币元), 占比为 4%”及前面的题目可得, $\frac{68621}{4\%} : 538820 \approx \frac{39}{4\% \times 540} = \frac{13}{7.2} \approx 1.8:1$, 选 A。

107.C [解析] 由“2014 年我国国防费预算约为 8082.3 亿元人民币, 及 1 美元=6.14 人民币元”可得, $\frac{8082.3}{5.6 \times 6.14} \approx \frac{8100}{34.4} \approx 235$ 万, 选 C。

108.D [解析] 2010 年本地网中继光线路长度变化率为 $\frac{535-448}{448} = \frac{87}{448}$, 2011 年为 $\frac{617-535}{535} = \frac{82}{535}$, 2012 年为 $\frac{723-617}{617} = \frac{106}{617}$, 2013 年为 $\frac{833-723}{723} = \frac{110}{723}$, 显然, $\frac{87}{448} > \frac{82}{535}, \frac{106}{617} > \frac{110}{723}$, 故只比较 2011 年和 2013 年的即可。 $\frac{82}{535} \div \frac{110}{723} = \frac{82 \times 723}{535 \times 110} = \frac{59X}{58X} > 1$, 故 $\frac{82}{535} > \frac{110}{723}$, 2013 年变化最小, 选择 D。

109.D [解析] 2009 年比重为 $\frac{298}{83+448+298} = \frac{298}{829} \approx 36\%$, 2013 年为 $\frac{822}{90+833+822} = \frac{822}{1745} \approx 47\%$, 上升了 $47-36=11$ 个百分点, 选 D。

110.C [解析] 观察四个选项, B、D 项可由图表直接判断。B 项, 2009 年我国长途光缆长度为 83, 2010 年为 82, 故 B 项错误; D 项, $833+822=1655 < 90 \times 20$, 故 D 项错误。

再来看 A、C 项。A 项, 2011 年我国光缆线路总长度为 $84+617+511=1212$, 2012 年为 $87+723+669=1479$, 2013 年为 $90+833+822=1745$, 可见 2012 年增长量为 $1479-1212=267$, 2013 年为 $1745-1479=266$, 2013 年增量小且基数大, 故 2013 年的增幅小于 2012 年, A 项错误; 故本题选择 C。