



2014 年广州公务员考试

《行政职业能力测验》真题



扫描二维码, 关注厚职公考官方公众号获取更多真题和资料

厚职公考网 (www.houzhawang.com) 整理提供



2014 年广州公务员考试行测真题及答案解析

2014 年广州公务员考试行测真题及答案 PDF 版下载 (答案解析请下载 PDF 版查看)

第一部分 言语理解与表达

本部分包括两种类型的题目:

一、选词填空。共 10 题, 要求你从四个选项中选出一个填空, 使句子的意思表达得最准确。

1. 填入下列横线处的词语, 最恰当的是 ()

科学家必须在_____的经验事实中抓住某些可用精密公式来表示的普遍特性, 由此探求自然界的普遍原理。

A. 偶发 B. 零散 C. 庞杂 D. 系统

1. 【解析】C。文段中“抓住某些可用精密公式来表示的普遍特性”说明对“经验事实”的修饰应与“某些”和“精密”相反相对, 因此“经验事实”应是“多”和“乱”的, 因此 C 项最准确。“偶发”指偶然发生, 不能对应后文的“普遍”; “零散”强调分散, 但不能突出“多”; 由于“经验事实”的修饰应与“某些”和“精密”相反相对, 因此“系统”错误。

2. 填入下列横线处的词语, 最恰当的是 ()

在物联网、云计算等新技术日趋进步之时, 管理软件厂商如何提升自身的市场洞察力和创新能力已经_____。

A. 迫不及待 B. 迫不得已 C. 迫在眉睫 D. 时不我待

2. 【解析】C。“日趋进步之时”说明是时代发展给“软件厂商”带来的紧迫感。“迫在眉睫”形容事情已到眼前, 情势十分紧迫。因此 C 项正确。“迫不及待”形容形容心情十分急切。但要用作谓语或状语, 因此 A 项错误。“迫不得已”指不得不如此, 无可奈何的意思。不符合语境的感情色彩, 因此 B 项错误。“时不我待”指时间不会等待我们。因此 D 项错误。

3. 依次填入下列横线处的词语, 最恰当的一组是 ()

成功的流行文化作品具有共性, 它们通俗, 却并不_____, 它们浅显, 却并不_____。

A. 俗套 短浅 B. 庸俗 短浅
C. 俗套 浅薄 D. 庸俗 浅薄

3. 【解析】D。文段中两个空格前的“却不”表明填入的词语含义和感情色彩应分别与“通俗”和“浅显”相反相对。因此 D 项正确。“短浅”搭配“目光”, 因此 A、B 错误。“俗套”指世俗的习惯和礼节或陈旧的格调、程式, 因此一般作为名词出现, 填入第一空不恰当, 因此 C 项错误。

4. 依次填入下列横线处的词语, 最恰当的一组是 ()

党的十八大以来, 高压反贪腐很好地_____了腐败官员, 在很大程度上_____了官场风气, 但对权力的监督不能光靠运动, 正如王岐山同志所言, 治标是在为治本赢得宝贵时间。

A. 震撼 转换 B. 威慑 扭转
C. 震撼 扭转 D. 威慑 转换

4. 【解析】B。根据文段的意思, 反贪腐对腐败的官员起到了震慑的作用。震撼通常指心灵层面的震动, 通常指一些好的事情, 而威慑指是对方感到恐惧, 正好符合文意。因此第一个空选择“威慑”。第二个空表明的是因果关系, 前面反贪腐的运动改变了官场的风气, 转换与扭转都可以表明改变, 但文中的意识是由不好到好。因此第二个空选“扭转”。因此选 B。

5. 依次填入下列横线处的词语, 最恰当的一组是 ()

这种困局, 不仅_____着政府的公信与权威, 也_____着不菲的社会成本和发展机遇。

A. 消减 消耗 B. 消减 浪费



C. 消损 浪费 D. 消损 消耗

5. 【解析】C。根据文段的意思, 表明困局对政府公信与成本的影响。消减指减退、减少, 通常侧重于数量, 较为具体; 消损指逐渐减少或者有所损伤, 而文中指的是政府的公信与权威, 属于抽象的, 因此选择“消损”。第二个空修饰不菲的社会成本, 属于固定搭配, 浪费成本, 而消耗通常形容精神、力量, 而不是成本。因此选 C。

6. 依次填入下列横线处的词语, 最恰当的一组是 ()

在危机出现之前, 不少美国大银行由于在住房抵押贷款方面提供不实信息, _____了投资者, 因此投资者提出了上千亿美元的巨额现金赔偿要求, 相关的法律诉讼和监管调查给这些经营刚刚有所好转的银行带来了新的_____。

A. 误导 压力 B. 诱导 阻力
C. 误导 阻力 D. 诱导 压力

6. 【解析】A。文段的第一个空属于因果关系, 提供不实信息对投资者的影响, 由于前面是不实的, 因此选择误导, 而诱导, 是引诱别人, 因此不选。而第二个空表达的要求赔偿对银行的影响, 给有所好转的银行造成了压力, 而阻力指妨碍与阻碍, 而要求赔偿属于意外的元素造成的, 因此选择压力。因此选 A。

7. 依次填入下列横线处的词语, 最恰当的一组是 ()

广州战略性新兴产业的产品有的是按国家标准生产, 尚未与国际标准_____, 与国际同类相关产品技术不_____, 导致这些产品只能销往国内市场。

A. 对接 兼容 B. 接轨 兼容
C. 接轨 融合 D. 对接 融合

7. 【解析】B。“接轨”的引申意思是一件事情与另一件事情连接起来。“对接”指将各部分端部的对接部接合固定起来, 不能搭配“产品”与“国际标准”的关系。因此排除 AD。“兼容”指同时容纳几个方面。“融合”是指将两种或多种不同的事物合成一体。原文意思是广州产品不能与国际相关产品技术相匹配, 而不是合为一体, 因此排除 C “融合”, 选择 B。

8. 依次填入下列横线处的词语, 最恰当的一组是 ()

_____《现代世界的诞生》《政治秩序的起源》等书并未冠以“现代化”的字眼, _____都是紧紧围绕现代化的某些侧面展开的, _____它们也都出于各自的理论视角重点探讨了中国现代化问题。

A. 因为 所以 并且
B. 尽管 但是 而且
C. 既然 并非 虽然
D. 如果 除非 那么

9. 【解析】B。前面两句话句意理解是转折关系, 因此 B 选项“尽管”“但是”表示转折关系匹配原题。后面两句话句意上理解是递进关系, 用“而且”也匹配。

9. 依次填入下列横线处的词语, 最恰当的一组是 ()

命与运_____如骨肉之不可剥离, 然而倘作理性研究, _____医学上的生理解剖, _____需先就骨论骨, 就肉论肉。

A. 必然 如 也
B. 必然 同 则
C. 固然 同 也
D. 固然 如 则

9. 【解析】D。前两句是表示转折关系与“然而”搭配, “固然”可表转折, 因此排除 AB。后面一句是用



医学解剖举例子, 因此用“如”排除 C。因此选择 D。

10. 依次填入下列横线处的词语, 最恰当的一组是 ()

践行群众路线、倾听民声, 党员干部应该做到: 倾听“赞许”, _____; 倾听“牢骚”, _____; 倾听“建议”, _____。

- A. 谦虚谨慎 平心静气 去糟取精
- B. 平心静气 谦虚谨慎 去糟取精
- C. 去糟取精 平心静气 谦虚谨慎
- D. 谦虚谨慎 去糟取精 平心静气

10. 【解析】A。谦虚谨慎: 形容人虚心礼让, 小心谨慎。平心静气: 形容心情平和, 态度冷静。去糟取精: 形容扬弃糟粕取其精华。根据成语释义, 听到赞许不能骄傲, 因此对应“谦虚谨慎”, 听到牢骚不能生气, 因此对应“平心静气”, 听到建议要注意吸收, 因此对应“去糟取精”。

二、阅读理解。共 15 题。每道题包含一段文字, 这段文字后面是一个不完整的陈述, 要求你从四个选项中选出一项来完成这一陈述。

11. 在社会经济尚不发达时, 传统建筑遭受的主要是自然的破坏。而在经济发展的起步阶段, 人们急于改变物质生活条件, 忽视精神生活的需求, 对传统建筑的人为破坏大大超过自然的破坏。待经济发展到一定水平, 价值观起了变化, 进而追求精神生活的丰富时, 传统建筑将重新受到重视。但传统建筑是不可再生的, 任凭今后有多么强大的经济实力, 对已遭受破坏而不复存在的传统建筑及其历史环境来说, 留下的只能是无法挽回的遗憾。

以上文字最主要想说明 ()

- A. 传统建筑的保留是一种精神生活的需要
- B. 在社会经济发展的过程中, 要重视对传统建筑的保护
- C. 对于传统建筑来说, 人为破坏的程度往往大于自然的破坏
- D. 在社会经济发展的过程中, 传统建筑的破坏是一个不可避免的过程

11. 【解析】B。文段一开始通过对比提出在经济不发达时“传统建筑遭受的主要是自然的破坏”, 而在经济发展起步阶段“人为破坏大大超过自然的破坏”, 通过两个转折关联词“而”、“但”语义后置, 转折后是重点, 因此重点落在“但传统建筑是不可再生的……”这一句, 这一句主要强调传统建筑破坏的危害性, 由提问方式可知这是一道意图判断题, 因此要选解决问题的对策, 答案选 B。D 选项对应文段最后一句, 但表述有误, 文段强调的是“遗憾”而并非“不可避免”。

12. 利用身体的免疫系统来对抗癌症是最有潜力的治疗方法之一。免疫系统是身体内一套由细胞、组织和器官组成的网络, 是人的健康保镖, 保护人免于疾病的威胁。自然, 这套免疫系统也会像雷达一样, 时时刻刻监视着是否有癌细胞出现。科学家们很早已经认识到, 这套免疫系统在预防癌症方面也起着关键的作用。有丰富的证据可以说明这一点, 而且, 那些免疫系统受到抑制的病人比别的病人更容易罹患癌症更是让这一点不言自明。

关于这段文字, 以下理解准确的是 ()

- A. 人体可以利用自身的免疫系统治愈癌症
- B. 免疫系统受到抑制的人很可能罹患癌症
- C. 免疫系统一旦发现癌细胞就会向大脑传递信息
- D. 未来的抗癌技术可能产生于对免疫系统的研究

12. 【解析】D。A 选项“人体可以利用自身的免疫系统治愈癌症”曲解题意, 文中只说“是最有潜力的治疗方法之一”没有说明能否治愈的问题; B 选项“免疫系统受到抑制的人很可能罹患癌症”无中生有, 文章只



说“免疫系统受到抑制的病人比别的病人更容易罹患癌症”; C选项“就会向大脑传递信息”无中生有, 文中没有提到会向大脑传递信息。D选项由文段第一句话可以推出。答案选D。

13. 国际人才竞争远比物质资源争夺更为复杂, 目前各国争夺人才的手段日渐多样化, 但从根本来说, 吸引并留住人才, 依靠的不仅仅是薪酬待遇, 更重要的是创造适合人才长远发展的基础和环境, 以及优化相关基本政策体系。目前, 各国都日益重视建立人才使用、评估、成长的开放环境, 从过去注重人才使用的短期政策过渡到有利于人才长期发展的制度建设上来。

关于这段文字, 以下理解准确的是 ()

- A. 争夺人才已经成为各国政府一项十分重要的工作
- B. 提供优厚的薪酬待遇不再是吸引人才的重要手段
- C. 吸引和留住人才需要一系列的综合配套措施
- D. 人才的长远发展是各国人才政策的终极目标

13. 【解析】C。A项表述无中生有, 文中讲的是各国“争夺人才的手段的多样化”。B项表述曲解题意, 文中表达的是“吸引并留住人才, 依靠的不仅仅是薪酬待遇, 更重要的是创造适合人才长远发展的基础和环境, 以及优化相关基本政策体系。”没有讲薪酬不重要而是要多种手段相结合。D项中的“终极目标”属无中生有。C项正确。

14. 实施大数据战略, 对于政府部门来说, 不仅意味着要上马多少高新科技项目, 也意味着调整自身运作的机制, 进行一次政府理念的创新、政府职能的转变、政府流程的再造。要打好这套组合拳, 必须经过以下考验: 政府所拥有的数据是否丰富和开放? 政府的管理和运作方式能否适配数据化决策? 在区域和国家层面, 是否拥有强大的数据分析产业和人才队伍作为支撑?

关于这段文字, 以下理解准确的是 ()

- A. 政府要实施大数据战略, 并不需要高新科技的支撑, 而需调整运作机制
- B. 政府的理念、职能和流程中存在太多制约政府运作机制良性发展的因素
- C. 管理理念、运作方式适配, 产业、人才的支撑是实施大数据的必要条件
- D. 高新科技项目是政府实施大数据战略的基础条件

14. 【解析】C。大数据战略需要组合拳, 而组合拳需要三个方面, 因此是必要条件, C项正确。A项, 对应文段第一句话的“不仅…也…”, 说明两者都需要, 该项不正确。B项对应第二句话, 但文段中只是说需要再造, 但没有说是不是存在太多制约因素。该项不正确。D项, 对应文段第一句话, 但文段强调的是递进之后, 而不是递进之前, 同时基础条件文段没有提及, 该项不正确。

15. 公共危机发生之后, 网民经常会在网络上发表对事件的看法, 同时凭个人经验进行主观判断, 甚至会存在一些人借危机事件表达对社会或者政府的不满, 使网络舆论呈现复杂化。政府作为危机管理机构, 在网络舆论出现不当情况时, 应当适当加以引导。这种引导, 不是人为控制人们情绪的宣泄和意见的发表, 而是让更多的意见参与进来, 特别是使一些专业人士参与其中, 使整个舆论能相对保持理性。

关于这段文字, 以下理解准确的是 ()

- A. 在公共危机发生之后, 政府应该容忍舆论中更多不同的意见
- B. 处理公共危机时, 政府应该引导舆论意见往理性的方向发展, 控制情绪的宣泄
- C. 公共危机中网络舆论的复杂化, 主要是因为人们对社会或者政府的不满
- D. 在公共危机发生后, 政府应该第一时间发布有关消息, 引导舆论方向

15. 【解析】A。A项, 对应文段最后一句, 不是人为控制, 让更多的意见参与进来, 正确。B项, 对应最后一句, 但文段说的是“不是人为控制人们情绪的宣泄”。C项, 对应文段中第一句, 但“主要”文段中没有提及。不正确。D项, 第一时间发布消息无中生有。不正确。



16. 大城市和小城市, 各有各的优势, 也各有各的劣势。留在大城市还是到小城镇生活, 依然是困扰人们的问题, 在发展比较均衡的地区, 这只是个体和群体的偏好, 在很多发展中国家, 则更像是个结构性问题。但无论是在哪里, 关键是要给年轻人一个“向上的发展空间”。城市发展的意义, 是给所有人更多选择, 而不是主导他们的选择。否则, 大城市的过度扩展和地区发展不均衡, 会让整个社会的梦想破碎。

关于这段文字, 以下理解准确的是 ()

- A. 在发展比较均衡的地区, 在哪里生活不再是困扰人们的问题
- B. 所有人有个更多的选择空间, 城市的发展才具有真正的意义
- C. 年轻人只要有一颗追逐梦想的心, 无论在哪里都能收获成功
- D. 整个社会的梦想破碎, 是因为大城市过度扩张和地区发展不均衡

16. 【解析】B。B项, 对应文段第三句, 城市发展的意义, 是给所有人更多选择。正确。A项, 对应文段第二句, 但文段说依然是困扰人们的问题, 只是不是结构性的。不正确。C项, 无中生有, 文段没有提及。D项, 对应最后一句, 否则是反面论证, 因此前面是原因, 原因是城市发展主导了人们的选择。才会使得社会梦想破碎。不正确。

17. 科普创作历来就是一个复杂的系统工程, 不仅需要相应的人力物力投入, 而且还需要作者巨大的精力和时间投入。要培养青年科普作者, 解决人才断层问题, 就需要遵循科普创作的特点和规律。比如, 进一步明确科普创作的地位, 将其放到与科学研究、科技推广等同等的地位予以重视, 或者建立科普人才的培养机制等。

关于这段文字, 以下理解准确的是 ()

- A. 科普创作需要多方面的巨大投入
- B. 科普作者应当遵循科普创作的特点和规律
- C. 科学研究、科技推广比科普创作更重要
- D. 建立科普人才的培养机制是不可或缺的一环

17. 【解析】A。从文段第一句可以知道, A项与文段的意思相符。B项偷换了主体, 把“培养青年科普作者, 解决人才断层问题”偷换成“科普作者”, C、D两项文段没有提及, 属于无中生有。

18. 工作或职位的内涵, 本来就是一个复杂的组合, 每一项工作都有它创意、趣味、多元的一面, 更有它辛苦、无聊、重复发生、令人讨厌的一面。许多有才气的人, 最后一事无成, 不是他才气不足, 只是他耐心不够, 无法通过无聊、无趣的考验, 以至于才气被怨气蒸发了。多少才气纵横但怨气冲天的人, 最后成为组织边缘人、成为组织的问题人物, 成为领导不得不放弃的马谡。

作者通过这段文字所表达的主要观点是 ()

- A. 人在工作中往往不会一帆风顺
- B. 对工作存在怨气是失败的根本
- C. 有才华的人不一定能在工作中取得成功
- D. 我们应该耐心对待工作中的无聊与无趣

18. 【解析】D。文段有三个分句, 第一分句是介绍工作或者职位的内涵特点, 引出工作的无聊、无趣这个话题。第二分句和第三分句意思是许多有才气的人由于耐不住工作的无聊、无趣而一事无成。文段围绕工作的无聊、无趣展开, 也就是说工作中如何面对无聊、无趣。因此D项最符合文段表达的观点。

19. 人们的负面情绪增多, 首先是社会制度、社会生活秩序发生病变的反映。如果社会制度能够让大多数人受益, 如果社会弘扬社会公平正义有明显成效, 就不可能出现较多公众不信任、不相信政府的情况。所以, 一旦有公众表达了不信任、不相信政府的意见, 政府就应该看作是一个危险的信号——自己的工作出问题了, 就应当立即深刻检讨, 查找工作中的问题, 承担责任, 并努力解决问题。

关于这段文字, 以下理解准确的是 ()



- A. 政府的工作出了问题人们就会产生负面情绪
- B. 不信任、不相信政府的人主要是利益受损的人
- C. 政府查找、解决自己的问题能换取公众的信任
- D. 化解人们的负面情绪是政府改进工作的契机

19. 【解析】D。A项语气过于绝对, B、C两项文段没有提及, 属于无中生有。从最后一句“所以, 一旦有公众表达了不信任、不相信政府的意见, 政府就应该看作是一个危险的信号——自己的工作出问题了, 就应当立即深刻检讨, 查找工作中的问题, 承担责任, 并努力解决问题。”可以判断, D项是正确的。

20. 城乡价值观念和行为习惯的诸多差异, 给进城务工的农民带来了极大的文化冲击。他们中有很多人通过社会学习, 积极地参与社会生活, 掌握城市社会的知识、技能和规范, 逐步适应和融入了城市社会。但在这个过程中也有不少人成了“双重边缘人”, 他们对家乡农村的依恋在减退, 不愿意或无法回归农村社会, 但同时又未能真正适应、融入城市。

关于这段文字, 以下理解准确的是 ()

- A. 很多农民因对家乡农村和农村不再依恋而进城务工
- B. 融入城市失败导致很多进城务工农民无法回归到农村社会
- C. 进城务工农民可以通过学习等方式克服城乡文化差异带来的冲击
- D. 城乡文化差异是很多进城务工农民无法适应、融入城市的直接原因

20. 【解析】C。A项偷换概念, 文段提到“他们对家乡农村的依恋在减退”, 该项讲“不再依恋”, 与原文不符。B项偷换逻辑关系, 文段中“无法回归农村社会”和“未能真正适应、融入城市”是并列关系, 排除。D项偷换概念。文段讲受到“冲击”, 并没有说“无法适应、融入。”排除。

21. 人类智力是无法获得完美认知的, 一个开放的社会, 应该承认人类容易犯错的特征, 而封闭社会则会否认这一点。封闭社会也在努力消除或者不想承认不确定性, 它会为历史设定一个单线性的目标。与之相比, 开放社会承认不确定性, 也承认整个社会目的的不确定性。如果我们承认未来是变化或者不确定的, 那么对此我们或者接受, 或者否定。前者为人们带来批判式思维模式, 并且能够带领我们走向开放社会, 后者则会导致教条式思维模式以及封闭的社会。

关于这段文字, 以下理解准确的是 ()

- A. 如果我们能接受未来是变化的, 那么就有可能获得批判性的思维模式
- B. 人们可以通过不断的批判和否定来确定社会的目的
- C. 封闭社会的教条式思想能消弭社会的不确定性, 并使人们获得完美的认知
- D. 人类容易犯错的特征使我们不得不接受未来是变化的、不确定的

21. 【解析】A。B、C选项无中生有。D项偷换逻辑: 并列关系偷换成因果关系。“容易犯错的特征”和“承认不确定性”是两个并列的关系。

22. 当前“科学技术是一把双刃剑”成为一种越来越被认可的说法。科学转化为技术, 再通过人的运用对自然产生影响, 如果运用不当或者超过适用条件, 势必会出现负面影响。科学本身哪怕是纯洁的、无辜的, 但是在它的基础上延伸出来的技术应用所带来的负面影响是很难避免的。所以, 这种说法被着重强调的时候, 人们关注的其实是科学的负面作用, 它削弱了“科学是正确”的传统形象, 从而也影响了科学在大众中的公信力, 给科学发展带来了障碍。

关于这段文字, 以下理解准确的是 ()

- A. 人们应该关注科学给人类社会带来的负面作用
- B. “科学技术是一把双刃剑”这种说法越来越被认可, 这种趋势有碍科学发展
- C. 科学技术应用延伸出来的负面影响反映出科学并不是绝对正确的



D. 人们总是将自己运用不当或者超过使用条件上的后果归结为科学的错

22. 【解析】B。A 选项无中生有。C 选项偷换概念。文段中讲：“它削弱了“科学是正确”的传统形象。”是科学给人的印象，并不涉及科学本身。D 选项无中生有。

23. 将下列句子组成一段逻辑连贯、语言流畅的文字，排列顺序最合理的是（ ）

①目前来看，我们的工作已经取得了阶段性成就，老百姓在改革中拓宽了融资渠道，赢得了发展资金，有了更加多样化的选择和发展空间。

②改革成功与否，第一判断标准就是能否让老百姓得到实惠。

③在下一步的改革中，我们将在先行先试的基础上，重点探索农民土地承包经营权股份经营，农民对集体“三资”股份占有、使用、担保、抵押、继承等。

④我们的改革成功迈出了第一步，但还面临着新型农业经营主体培育、特色产业扶持、职业农民培育等诸多问题。

- A. ③①②④ B. ②①④③
C. ④②③① D. ①④③②

23. 【解析】B。语句排序题的思路为：从选项入手，观察选项的规律，首先确定首句，然后阅读排序。本题首句有四种可能性，四句都在讨论改革的成功与否，但②中出现改革的“第一判断标准”，因此作为首句的可能性最大。于是验证 B 项剩下顺序。B 项第二句①中出现“我们的工作已经取得了阶段性成就，老百姓在改革中拓宽了融资渠道”正好对应首句②中出现的“第一判断标准就是能否让老百姓得到实惠”。第三句④首先肯定了成功，但也引出了问题，正好对应最后一句③中“下一步改革”要去解决的问题。综上所述 B 项正确。

24. 将下列句子组成一段逻辑严谨、语言流畅的文字，排列顺序最合理的是（ ）

①“快”似乎成了一种躲避不开的生活潮流，“快”也许是每个中国人对自己生活的最真切感受。

②究其原因，与我们快速发展的生活节奏不无关系。

③从容作为一种悠然、宽缓的生活态度，已然成为一种稀缺的东西且离我们的生活渐行渐远。

④中国速度催生了我们生活的快节奏，我们在有意无意间做着压缩时间的工作。

- A. ①②④③ B. ①④③②
C. ③②④① D. ④①②③

24. 【解析】C。本题的语句排序考得是语句重复，只有四个句子，②与③句子中都含有“生活”，其排序为③②。④中前面提到了中国催生了快的节奏，后面提到了我们，而①最后提到了中国人，与④中的我们相对应。①④排序的顺序为④①。②的末尾提到了生活节奏，④的开头也提到了生活快节奏，因此顺序为②④，因此选择 C 项。

25. 将下列句子组成一段逻辑连贯、语言流畅的文字，排列顺序最合理的是（ ）

①然而，繁华盛景背后的旧制度却已是风烛残年、百孔千疮。

②德国总理默克尔赠给了中国贵宾的一幅古老地图，在无数国人心中激起波澜。

③在当时已经踏上现代化之路的欧洲人眼里，君权专制的中华帝国“翻来覆去只是一座雄伟的废墟”。

④那幅绘于乾隆年间的中国地图，刻画的是中国封建史上最后一个辉煌的年代。

- A. ②③①④ B. ①②④③
C. ②④①③ D. ③②④①

25. 【解析】C。通过选项提示确定首句，①中“然而”关联词一般不做首句发起词排除，③中“在当时”不做首句因此排除。所以排除 BD。观察题干，②句与④句话题一致联系紧密，因此排除 A 选择 C。

第二部分 数量关系

本部分包括两种类型的试题：

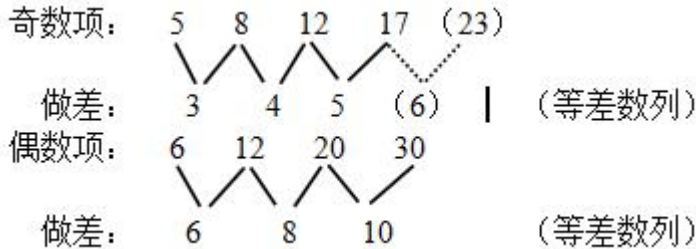


一、数字推理。共 5 题。给你一个数列, 但其中缺少一项, 要求你仔细观察数列的排列规律, 然后从四个选项中选出你认为最合理的一项来填补空缺项。

26. 5, 6, 8, 12, 12, 20, 17, 30, ()

- A. 19 B. 23 C. 26 D. 30

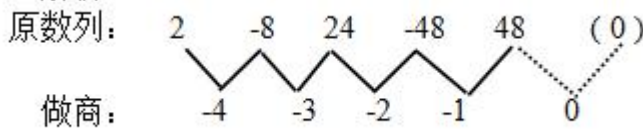
26. 【解析】B。



27. 2, -8, 24, -48, 48, ()

- A. -96 B. -32 C. 0 D. 64

27. 【解析】C。



28. 8, 32, 4, 1/8, ()

- A. 1/32 B. 1/4 C. 8 D. 32

28. 【解析】A。商递推后一项与前一项的商等于第三项, 即 $32 \div 8=4$, $4 \div 32=1/8$, $1/8 \div 4= (1/32)$ 。

29. 1, 3, 2, 3, 4, 9, ()

- A. 13 B. 18 C. 29 D. 32

29. 【解析】A。积递推后一项与前一项的积减去前一项等于第三项, 即 $3 \times 1 - 1=2$, $2 \times 3 - 3=3$, $3 \times 2 - 2=4$, $4 \times 3 - 3=9$, $9 \times 4 - 4= (32)$ 。

30. 0, 4, 18, ()

- A. 48 B. 46 C. 36 D. 28

30. 【解析】A。 $0=0 \times 1^2$, $4=1 \times 2^2$, $18=2 \times 3^2$, 则未知项为 $3 \times 4^2=48$ 。

二、数学运算。共 10 题。要求你充分利用所给条件, 寻找解决问题的捷径。

31. 某海鲜档口出售一批总共 150 斤的鲜鱼, 按原售价每卖出一斤可赚 5 元。由于较为畅销, 在卖出三分之一后, 档主将售价上调 20%。卖完所有鲜鱼后, 档主一共赚了 1250 元, 则原售价是每斤 () 元。

- A. 20 B. 25 C. 30 D. 35

31. 【解析】B。设原价为 x , 则成本为 $x-5$ 元, 根据题意可得: $50x+100 \times 1.2x-150(x-5)=1250$, 解得 $x=25$ 。

32. 某公交线路从起点到终点共 25 个站点, 每天早上 6 点分别从起点站和终点站同时出发首班车, 晚上 10 点开出末班车, 每班车发车时间间隔 10 分钟。假设每辆车从一个站点行驶到下一个站点所需时间为 5 分钟, 则该线路至少需要配备 () 辆车。

- A. 24 B. 13 C. 12 D. 26

32. 【解析】A。25 个车站, 一共有 24 段, 每段是 5 分钟, 所以一辆车从最开始至最末端是 $24 \times 5=120$ 分钟, $120 \div 10=12$ 辆车, 因为是在两端发车, 则所需车辆数为 24 辆。

33. 吴老师到商店买篮球和足球共 56 个。篮球每个定价 90 元, 足球每个定价 80 元。由于购买的数量较多, 该商店老板就给吴老师八折优惠, 结果吴老师付的钱比按定价买少付了 960 元, 那么他买了 () 个篮球。



A. 24 B. 26 C. 30 D. 32

33. 【解析】D。设吴老师买了 x 个篮球, 则买了 $56-x$ 个足球。因为打了八折可少 960 元, 则二折的费用是 960 元, 根据题意可得: $[90x + (56-x) 80] \times 0.2 = 960$, 解得 $x=32$ 。

34. 往一个空的正方体鱼缸里装水, 装完第一次水后, 水面的高度为 5 厘米, 之后每次的装水量都是上一次的两倍。当装完第四次水后, 水面距离鱼缸顶部还有 15 厘米, 则该鱼缸的高度是 () 厘米。

A. 50 B. 75 C. 90 D. 105

34. 【解析】C。根据题意, 由于鱼缸是正方体, 那么体积的变化直接体现在高度的变化上面, 当体积变为之前的两倍, 那么高度就变为原来的 2 倍, 那么在第四次装完之后, 水面的高度为 $5+10+20+40=75$, 还有 15 厘米的空余, 那么总的高度就是 $75+15=90$, 因此 C 项正确。

35. 有七位考官对一位应聘者评分, 如果去掉一个最高分和一个最低分, 则平均分为 7 分; 如果只去掉一个最高分, 则平均分为 6.75 分; 如果只去掉一个最低分, 则平均分为 7.25 分。那么, 这位应聘者所得的 7 个分数中, 最高分与最低分的差值为 () 分。

A. 1.5 B. 2 C. 3 D. 3.5

35. 【解析】C。设最高分为 x , 最低分为 y , 根据题意可得: $y+35=6.75 \times 6$; $x+35=7.25 \times 6$, 联立, 解得 $x-y=3$ 。

36. 有一项工程, 甲公司花 6 天, 乙公司再花 9 天可以完成; 或者甲公司花 8 天, 乙公司再花 3 天可以完成。如果这项工程由甲公司或乙公司单独完成, 则甲公司所需天数比乙公司少 () 天。

A. 15 B. 18 C. 24 D. 27

36. 【解析】B。6 甲+9 乙=8 甲+3 乙, 可得甲=3 乙, 赋值乙的工作效率为 1, 则甲的工作效率为 3, 可得工作总量为 27, 则甲单独完成需要 9 天, 乙单独完成需要 27 天, 两公司相差 18 天。

37. 某办公室接到 15 份公文的处理任务, 分配给甲、乙、丙三名工作人员处理。假如每名工作人员处理的公文份数不得少于 3 份, 也不得多于 10 份, 则共有 () 种分配方式。

A. 15 B. 18 C. 21 D. 28

37. 【解析】D。根据题意, 由于每人处理的公文书不能少于 3 份, 那么先给这三人每人两份, 则还剩余 $15-2 \times 3=9$ 份, 此时分配就是每人至少一份, 并且不多于 7 份, 也就是不多于 $7+2=9$ 份, 那么应用插板法, 则有 $C(8, 2)=28$ 种分配方法, D 项正确。

38. 某航空公司所有机票一律七折, 在此基础上, 教师可以再享受八折优惠, 学生可以再享受六折优惠, 学生小丁与父亲和当老师的妈妈用 2520 元购得机票三张一起外出旅游, 则小丁一家所购机票原价为每张 () 元。

A. 800 B. 1000 C. 1250 D. 1500

38. 【解析】D。设机票的原价为 x , 根据题意可得 $0.7x+0.56x+0.42x=2520$, 解得 $x=1500$ 。

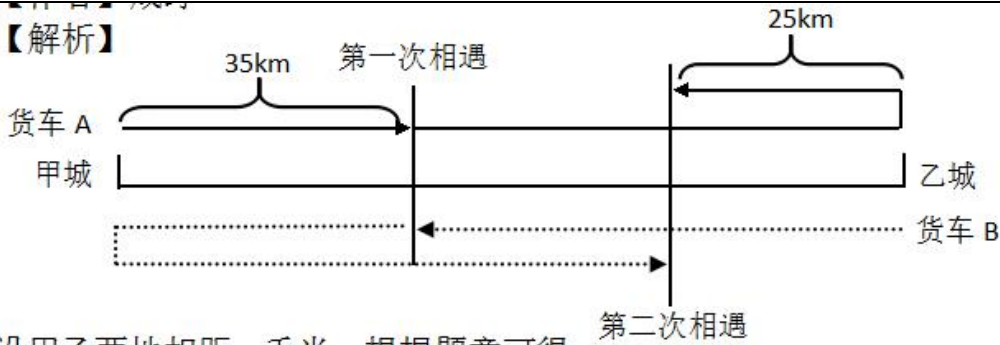
39. 货车 A 由甲城开往乙城, 货车 B 由乙城开往甲城, 它们同时出发并以各自恒定的速度行驶, 在途中第一次相遇时, 它们离甲城为 35 千米。相遇后两车继续以原来的速度行驶至目的地城市后立即折返, 途中再一次相遇, 这时它们离乙城为 25 千米。则甲乙两城相距 () 千米。

A. 80 B. 85 C. 90 D. 95

39. 【解析】A。



【解析】



设甲乙两地相距 s 千米, 根据题意可得:

$$\frac{35}{V_A} = \frac{s-35}{V_B} \quad \text{①}, \quad \frac{35+s-25}{V_B} = \frac{s-35+25}{V_A} \quad \text{②}, \quad \text{联立①②, 可得 } \frac{35}{s-35} = \frac{s-10}{s+10},$$

解得 $s=80$ 。

【快解】根据题意, AB 两辆货车第一次相遇的时候, 货车 A 行驶了 35 千米, 第二次相遇的时候, 两车行驶了 3 个全程, 且货车 A 的行驶路程为一个全程加上折返路程, 也就是距离乙城的 25 千米, 那么甲乙两城距离为 $35 \times 3 - 25 = 80$ 。

40. 甲乙两人在玩一个沙盘游戏, 比赛的规则是: 在一个分为 50 个单位的区域上, 每人轮流去划定这些区域作为自己的领地, 每次可以划定 1 到 5 个单位, 谁作为最后划定区域的人则为胜利者, 如果由甲划定, 那么甲一开始要划定 () 个单位, 才能保证自己获胜。

- A. 1 B. 2 C. 3 D. 4

40. 【解析】B。甲一开始划 2 个单位, 还剩下 48 个单位。此后, 由乙先划, 每次乙划 x 个单位的时候, 甲就划 $(6-x)$ 个 (即乙划 1 个, 甲划 5 个; 乙划 2 个, 甲划 4 个; 乙划 3 个, 甲划 3 个; 乙划 4 个, 甲划 2 个; 乙划 5 个, 甲划 1 个), 保证每轮 “乙甲” 下来都是减少 $x + (6-x) = 6$, 那么这 48 个单位经过 8 轮之后就划完了, 且最后一个单位必然是甲划定的, 因此甲必然获胜, B 项正确。

第三部分 常识判断

(共 15 题: 参考时间 15 分钟)

本部分仅有一种类型的试题:

常识判断: 请你依据常识作出判断。注意: 似乎合理的答案可能有多种, 你应选择最为合理的一个 (共 15 题, 每题 0.8 分, 共 12 分)

41. 近 3000 年来, 我国经历了三个气候温暖湿润时期和三次大规模的变冷时期, 每次气候变冷, 北方游牧民族政权南部疆域的版图都必须扩大, 如果不能扩大, 这些游牧民族政权就会灭亡。由此可以得知, () 时期出现了气候变冷的情况。

- A. 战国 B. 西汉 C. 隋唐 D. 南宋

41. 【解析】D。依据题意, 结合各个朝代的历史知识, 只有 D 符合题意。

42. 甲因与乙发生互殴, 受伤入院治疗。两周后, 甲即将痊愈出院, 但在最后一次换药时, 因主治医师丙操作医疗器械失误, 甲伤口被感染而需继续留院治疗。第二天, 医院病房因电线老化短路而引发火灾, 甲不幸在火灾中遇难。按照法律, () 应对甲的死亡承担法律责任。

- A. 乙 B. 丙 C. 医院 D. 乙、丙和医院共同

42. 【解析】C。

43. 一篇名人传记里介绍这位名人: “他出生于英国贵族家庭” “他在 20 世纪 20 年代到北京大学讲学” “他提倡离婚手续简化” “他以九十八岁高龄离世” ……由此可以得知, 这位名人是 ()



- A. 培根 B. 康德 C. 罗素 D. 杜威

43. 【解析】C。康德出生于德国, 杜威出生于美国, 培根离世时是 65 岁, 所以选 C。

44. 佛教有“大乘佛教”和“小乘佛教”的分别。其中,“乘”指的是 ()

- A. 车辆 B. 智慧 C. 超度 D. 佛法僧

44. 【解析】A。“乘”是梵文 yana (音读“衍那”) 的意译, 指运载工具, 比喻佛法济渡众生, 象舟, 车能载人由此达彼一样。

45. 以下诗句诗意连贯且对仗工整的是 ()

- A. 绿蚁新醅酒, 洗手作羹汤
B. 空山松子落, 幽人应未眠
C. 河山北枕秦关险, 驿路西连汉峙平
D. 漠漠水田飞白鹭, 朝朝马策与刀环

45. 【解析】C。“河山”对“驿路”, “北枕”对“西连”, “秦关”对“汉峙”, “险”对“平”, 最为工整。

46. 在我国古代, 二姓结为婚姻, 一般要经过六道程序, 称为“六礼”, 包括“迎亲”“纳吉”“纳彩”“问名”“请期”“纳征”。关于六礼, 以下说法正确的是 ()

- A. “问名”在“纳彩”之前
B. “迎亲”是指男家迎请女家父母参加婚礼
C. “纳吉”和“纳征”分别指男家向女家提亲及送聘礼
D. “请期”是指男家择定完婚吉日, 向女家征求同意

46. 【解析】D。“婚”的程序为: 纳采, 问名, 纳吉, 纳征, 请期和亲迎。纳采, 就是男方的父亲先派媒人去女方家里提亲, 女方同意后, 就派使者送定亲礼品, 正式求婚。纳采结束后, 使者立即询问女方父母的姓名, 女子本身的名字、排行和出生年月日, 回男方占卜吉凶, 就是问名。问名结束后, 男方占卜得到吉兆, 使者就重新到女方家里, 婚姻就正式地确定下来, 这就是纳吉。纳吉结束后, 男方向女方送财礼, 无论贫富, 财礼是不可少的, 这叫纳征。送完财礼后, 男方派人到女方家里选定结婚日期, 其实男方在占卜的时候就已经确定了结婚的日期, “请期”只是谦辞, 表示尊重女方的意见。“迎亲”。新婿亲往女家迎娶新娘的仪式。通常是男家将婚期通知女家后, 到成婚日, 由新郎亲自到女家迎接新娘, 也有由男家派遣迎亲队伍迎娶, 新郎在家等候。

47. 当在建筑物内发生火灾时, 在逃生过程中, 不应该 ()

- A. 一直朝着有亮光的方向逃生
B. 通过天窗爬上屋顶
C. 利用建筑物的落水管等竖直线管下滑至地面
D. 利用阳台、毗邻平台逃生

47. 【解析】B。撤离时要注意, 朝明亮处或外面空旷地方跑, 要尽量往楼层下面跑, 若通道已被烟火封阻, 则应背向烟火方向离开, 通过阳台、气窗、天台等往室外逃生, 有能力的可以利用管道逃跑。

48. 以下民间谚语与所描述的节气的对应关系中, 错误的是 ()

- A. 蓄水如屯粮, 水足粮满仓——雨水
B. 春雷一响, 惊动万物——惊蛰
C. 晚稻就怕霜来早——立秋
D. 春节前后少农活, 莫忘鱼塘常巡逻——大寒

48. 【解析】C。C 项诗句描述的是霜降节气

49. 以下现象, 产生的原因与其他选项不一样的是 ()

- A. 同一种花, 山上的比山脚下的开得要晚



- B. 任何季节, 中午时分, 只要有太阳照射的地方, 影子都指向北
- C. 在我国夏季, 长春的日照时间比广州要长得多
- D. 地球分为五个气候带, 分别是热带、南温带、北温带、南寒带、北寒带

49. 【解析】A。BCD 都与太阳照射有关系, A 与气温有关系

50. 苏轼在《赤壁赋》中写到:“壬戌之秋, 七月既望, 苏子与客泛舟游于赤壁之下。”在一阕《水调歌头》的序中说:“丙辰中秋, 欢饮达旦, 大醉, 作此篇, 兼怀子由。”文中所述的“夜游赤壁”和“中秋夜饮”()

- A. “夜游赤壁”发生在前
- B. “中秋夜饮”发生在前
- C. 两者同年发生
- D. 两者发生时间相隔了四年

50. 【解析】B。天干地支 60 年一循环, 通过先后顺序, 可知苏轼一生经历的丙辰肯定在壬戌之前。

51. 《来自星星的你》一剧中, 都敏俊在地球已经生活了四百多年。在刚刚过去的四百多年里, 地球上未曾发生的事件或不能观测到的现象是 ()

- A. 受印第安人启发, 西方人发明了治疗疟疾的特效药
- B. 哥德巴赫猜想提出, 并被德国人证明
- C. 日本侵略朝鲜, 中国出兵救援
- D. 哈雷彗星出现在地球上空

51. 【解析】B。A 发生于 17 世纪, B 发生于 1742 年左右, D 项 20 世纪后曾出现过, 而 C 项发生在 16 世纪, 符合题意。

52. 以下做法中, 所运用的科学原理与其他三项不同的是 ()

- A. 烹饪海鲜时加入柠檬汁以去除腥味
- B. 服用小苏打可以治疗某些类型的胃痛
- C. 在蜜蜂蛰后的伤口涂抹氨水以减轻疼痛
- D. 在被污染的湖泊中培育水藻吸收过量的氮和磷

52. 【解析】D。ABC 都属于中和反应。

53. 《说文解字》里说:“鼎, 三足两耳, 和五味之宝器也。”作为中华文化的象征之一, 鼎在古代原本是用 () 的器具。

- A. 祭祀
- B. 观赏
- C. 行刑
- D. 烹饪

53. 【解析】D。鼎是中国古代的一种青铜器, 三足, 两耳, 通常刻有精细的纹饰。鼎最初是一种炊具, 后来因用于烹饪祭祀给神的牲畜, 而上升为礼器, 成为国家政权中君主、大臣等权力象征。

54. 婴儿的以下行为属于本能的是 ()

- A. 说话
- B. 走路
- C. 笑
- D. 吸奶

54. 【解析】D。无条件反射指生来就有的先天性的反射, 也叫本能行为。觅食反射: 用手指或乳头抚摸一下新生儿的面颊或接触其嘴唇, 他就会转头张嘴, 开始吸吮动作。这个重要的反射能使新生儿找到或吃到食物。在出生仅半小时的、醒着的新生儿身上可观察到这种反射。

55. 由于地理位置、宗教信仰、历史文化等方面的差异, 世界各地存在截然不同的饮食习惯。下列情况中, 符合现实的是 ()

- A. 在新德里的餐厅里, 卡里牛肉拌饭十分受当地人欢迎
- B. 在慕尼黑啤酒节上, 当地人一边喝着啤酒一边吃着咸猪手
- C. 在梵蒂冈当地家庭的餐桌上, 通常会有来自当地港口的海鲜



D. 在北海道的冬天, 当地人自古以来都食用胡椒以抵御严寒

55. 【解析】B。牛被印度教教徒视为“神兽”, 印度教徒认为, 牛既是繁殖后代的象征, 又是人类维持生存的基本保证。印度不可能吃牛肉饭。梵蒂冈是一个内陆的小国家, 胡椒原产不在日本, 自古以来有错误。

第四部分 逻辑推理

(共 30 题, 参考时限 25 分钟)

本部分包含三种类型的试题:

六、类比推理: 请选择合适的答案填入括号处, 使得前后两组词在内在逻辑关系上最为相似 (共 10 题, 每题 1 分, 共 10 分)。

56. 左手: 右手

- A. 黑色: 白色 B. 幸存者: 遇难者
C. 晴天: 阴天 D. 老人: 孩子

56. 【解析】B。左手和右手在逻辑关系上为矛盾关系, 选项中只有 B 选项中幸存者和遇难者为矛盾关系, A、C、D 三项皆为反对关系。

57. 振动: 频率

- A. 价值: 价格 B. 时间: 金钱
C. 移动: 速度 D. 太阳: 温度

57. 【解析】C。频率是振动的属性之一, 速度是移动的属性之一, 按照此规律, C 项正确。

58. 罪犯: 监狱

- A. 书本: 书柜 B. 教师: 学校
C. 运动员: 体育馆 D. 病人: 医院

58. 【解析】D。罪犯在监狱里被看护, 病人在医院里被看护, 按照此规律, D 项正确。

59. 旋律: 歌词

- A. 形状: 色彩 B. 义务: 责任
C. 道义: 责任 D. 目的: 动机

59. 【解析】A。旋律和歌词是一首歌曲的主要功能部分, 形状和色彩是一个物品的主要功能部分。因此 A 项正确。

60. 喷洒器: 农药

- A. 电动车: 电池 B. 剑鞘: 利剑
C. 光盘: 资料 D. 书柜: 书籍

60. 【解析】B。农药装在喷洒器中, 在使用时从喷洒器中喷出; 利剑装在剑鞘中, 在使用时从剑鞘中拔出。

61. 风扇: 空调

- A. 潜艇: 航母 B. 雨衣: 雨伞
C. 宣纸: 电脑 D. 蜡烛: 电灯

61. 【解析】D。风扇和空调具有相同的制冷功能, 且后者比前者更先进; 蜡烛和电灯具有相同的照明功能, 且后者比前者更先进。

62. 螺丝: 螺母

- A. 门板: 门框 B. 天台: 地板
C. 时针: 齿轮 D. 水泥: 砂浆

62. 【解析】A。螺丝要安装在螺母内, 门板要安装在门框内。按照此规律, 正确答案为 A。



63. 冷嘲：热讽

- A. 风刀：霜剑 B. 绿肥：红瘦
C. 谈古：论今 D. 寒耕：暑耘

63. 【解析】D。冷与热是一组反义词，嘲和讽是一组近义词，D项中寒与暑是一组反义词，耕与耘是一组近义词。因此D项正确。

64. 开心：笑盈盈

- A. 自私：假惺惺 B. 腼腆：羞答答
C. 透明：亮晶晶 D. 虚弱：软绵绵

64. 【解析】B。笑盈盈象征着一个人很开心，羞答答象征着一个人很腼腆。因此B项正确。

65. 歌剧院：图书馆

- A. 控制塔：飞行跑道 B. 衣服：裤子
C. 菜篮子：皮箱子 D. 水杯：水池

65. 【解析】C。歌剧院与图书馆在逻辑上为反对关系，两者作用对象不同但都具有作为社会公共资源的相近的功能属性。控制塔和飞行跑道功能属性不同；衣服和裤子之间为组成关系；菜篮子和皮箱子在逻辑上为反对关系，且两者作用对象不同但都具有作为承载物的相近的功能属性；水杯和水池作用对象相同。因此C项正确。

七、逻辑判断：下列每道题都给出了一段陈述，这段陈述被假设是正确的，不容置疑的。请你根据这段陈述，从备选项中选择一答案。注意，正确答案应与所给的陈述相符合，不需要任何附加说明即可从陈述中直接推出（共10题，每题1.2分，共12分）

66. 绝大多数受过教育的父母是负责任的父母，当然，一些未受过良好教育的父母也是负责任的父母，然而，所有负责任的父母都有一个共同特征，那就是他们都善于和孩子沟通。

如果上述陈述都是正确的，那么下列陈述中也必然正确的是（ ）

- A. 所有善于和孩子沟通的父母都是负责任的父母
B. 绝大多数负责任的父母是受过良好教育的父母
C. 一些善于和孩子沟通的父母是未受过良好教育的父母
D. 一些善于和孩子沟通的父母不是负责任的父母

66. 【解析】C。整理题干信息可知“绝大多数受过教育”或“一些未受过良好教育”→“负责任的父母”，“负责任的父母”→“善于和孩子沟通”，A项肯定后件，不能推出肯定的前件，错误。同理，B项错误。D项肯定后件，不能推出否前，排除。

67. 某宾馆VIP休息室门外贴着一张醒目的提示语“吸烟者禁止入内”。一天，来了三位客人，他们都是不抽烟的。如果上述提示语得到准确理解和严格执行，那么以下哪一项陈述一定是正确的（ ）

- A. 他们一定会被允许进入
B. 他们可能会被允许进入
C. 他们一定不会被允许进入
D. 他们不可能被允许进入

67. 【解析】B。整理题干信息可知“吸烟者”→“禁止入内”，“不吸烟”否定前件推不出必然性的结论，因此A、C、D都是必然性结论，排除；B选项“他们可能会被允许进入”正确。

68. 今年来，农民的收入水平不断上升，而支出占收入的比重持续上涨，这表示他们挣得越多反而花得越多；相反，今年来城市居民支出占收入的比重持续下降。所以，我们可以得出“农村居民比城市居民更敢花钱”的结论。



以下选项如果为真, 能够反驳上述结论的是 ()

- A. 城市居民的收入远高于农村居民
- B. 城市生活成本高, 城市居民在消费时会比农村居民更加谨慎
- C. 由于家庭人口的差异, 农村家庭支出比城市家庭高得多
- D. 基本生存成本的上升速度高于农民收入的增长速度

68. 【解析】C。题干论点: 农村居民比城市居民更敢花钱。题干论据: 农民的收入水平不断上升, 而支出占收入的比重持续上涨, 这表示他们挣得越多反而花得越多; 相反, 近年来城市居民支出占收入的比重持续下降。C项提出是因为“农村家庭支出比城市家庭高得多”导致支出更多, 属于他因削弱。

69. 某律师事务所共有 6 名工作人员, 这里有三个陈述: 所里有的人会用 WIN8 操作系统, 所里有的人不会用 WIN8 操作系统, 主任不会用 WIN8 操作系统。已知其中只有一个陈述为真, 可以推出该所会用 WIN8 操作系统的人数为 ()

- A. 6 人
- B. 1 人
- C. 0 人
- D. 不能确定

69. 【解析】A。“所里有的人会用 WIN8 操作系统”与“所里有的人不会用 WIN8 操作系统”互为一对下反对关系, 必有一真, 因此“主任不会用 WIN8 操作系统”为假, 可推知主任会, “所里有的人会用 WIN8 操作系统”为真, “所里有的人不会用 WIN8 操作系统”为假, 其矛盾命题“所有人都会”为真, 即会用 WIN8 操作系统的有 6 人。

70. 只有当我能够做出其他选择时, 我对我的行为才负有道德责任。因为一个人若无力避免某行为, 就不应被认为对该行为负有道德责任。

由此可以推出 ()

- A. 如果我对我的行为负有道德责任, 那么我做出的行为是可以选择的
- B. 只要我能够做出其他选择, 我就对我的行为负有道德责任
- C. 一个人如果能避免某种行为, 那么, 就应该认为他对该行为负有道德责任
- D. 一个人如果能做出行为选择, 那么, 某种行为就是他能避免的

70. 【解析】A。题干“只有当我能够做出其他选择时, 我对我的行为才负有道德责任”可翻译为“我对我的行为负有道德责任”→“我能够做出其他选择”, A项符合题干信息。B项肯后不能推肯前, 错误。C、D项不能根据题干中的因果关系翻译得出。

71. 尽管家长、老师都大力宣扬体育运动能有效改善孩子的健康情况, 但是他们还是会把运动和学业对立起来, 认为孩子应该把更多的时间放在学业上, 以提高学习成绩。而有专家表示, 运动时间越多的孩子, 学习成绩越高, 建议家长、老师给孩子更多的时间去运动。

以下哪个选项如果为真, 则最能削弱专家的推论 ()

- A. 体育运动能让孩子在上课精神更集中, 从而提高学习成绩
- B. 家长、老师倾向于让学习成绩好的孩子有更多自由活动的空间
- C. 体育锻炼能促进脑细胞之间建立新的联结, 从而提高思维反应速度
- D. 身体健康的孩子比不健康的孩子更能获得老师的关心

71. 【解析】B。题干的论点: 专家表示, 运动时间越多的孩子, 学习成绩越高, 建议家长、老师给孩子更多的时间去运动。题干论据: 他们还是会把运动和学业对立起来, 认为孩子应该把更多的时间放在学业上, 以提高学习成绩。

A项, 体育运动能让孩子学习成绩提高, 支持B项, 学习成绩好才会有更多的自由活动时间, 而不是题干论点中运动时间多导致学习成绩高, 因果倒置削弱, C项削弱了专家推论, 提高思维反应速度不代表学习成绩就会提高。D项, 身体健康与运动时间无关, 没提学习成绩高低。



72. 某市市长在媒体发布会上说: 近年来, 我们提倡在外工作的年轻人回家乡工作, 为家乡的发展作贡献。目前, 这项工作已经取得实效。现在越来越多的大学毕业生愿意回到家乡工作, 而不像以前, 他们中的大部分人都去了一线城市。

以下哪个选项如果为真, 则最能削弱该市市长关于“这项工作已经取得实效”的推论 ()

- A. 一线城市生活成本越来越高, 很多大学毕业生无法留在那里参加工作和生活
- B. 同时期, 全国各地都在提倡“大学生回乡作贡献”
- C. 一线城市是时尚潮流和信息的集中地, 大学生毕业后都向往在一线城市生活
- D. 与该地区毗邻的另外一个地区没有出现越来越多大学生回家乡工作的情况

72. 【解析】A。题干论点: 现在越来越多的大学毕业生愿意回到家乡工作, 而不像以前, 他们中的大部分人都去了一线城市。题干论据: 某市市长在媒体发布会上说: 近年来, 我们提倡在外工作的年轻人回家乡工作, 为家乡的发展作贡献。A项, 不是市长在发布会上提倡后大学毕业生愿意回到家乡而是因为一线城市生活成本太高才回去, 当选。B项, 无关项, 不能说明该市长的提倡是否有效。C项, 无关项, 没有提到回家乡问题。D项, 其他地区不能说明该地区的情况。

73. 某公司发出通知, 要求下属的连锁便利店增加同类但不同品牌的商品。公司管理层认为, 这样做能让任何消费者进来买某类商品时, 总能挑到他想买的, 从而使公司获得更多的利润。

以下哪个选项如果为真, 则最能削弱该公司的推论 ()

- A. 在增加同类但不同品牌的商品后, 其下属的连锁便利店的消费者数量并没有显著增加
- B. 消费者在面临更多的同类但不同品牌的商品时, 往往不知道如何挑选
- C. 自从公司实施了增加同类但不同品牌的商品这一措施后, 员工流失率有所提高
- D. 增加同类但不同品牌的商品导致管理成本大大增加, 从而降低总体利润

73. 【解析】D。题干论点: 公司管理层认为, 这样做能让任何消费者进来买某类商品时, 总能挑到他想买的, 从而使公司获得更多的利润。题干论据: 某公司发出通知, 要求下属的连锁便利店增加同类但不同品牌的商品。A项, 消费者数量没有增加, 也可能个人消费额上升了, 同样可能提高利润, 不能削弱。B项, 顾客不知道如何选择, 没有说利润是否有影响。C项, 没有说利润升高还是降低。D项, 增加同类不同品牌的商品反而降低了利润, 直接否定结论, 当选。

74. 俄罗斯某研究机构的调查结果显示, 在处理乌克兰危机过程中, 俄罗斯总统普京的支持率稳步上升, 并且在三月中旬克里米亚加入俄罗斯时达到普京执政以来的新高。

以下哪一项陈述最准确地解释了上述现象 ()

- A. 在国内民众中支持普京以强硬手段解决乌克兰危机的人多于不支持的人
- B. 在普京以强硬手段解决乌克兰危机后, 先前不支持他的人现在转而支持他
- C. 在乌克兰发生危机之前, 支持普京的人现在仍然继续支持他
- D. 普京以强硬手段解决乌克兰危机是其支持率飙升的唯一原因

74. 【解析】B。题干现象: 在处理乌克兰危机过程中, 俄罗斯总统普京的支持率稳步上升, 并且在三月中旬克里米亚加入俄罗斯时达到普京执政以来的新高。A项, 该项说的是一种状态, 支持的人多于不支持的人, 不能解释题干中的支持率上升的变化情况; B项, 不支持的人现在转而支持他了, 可以得出普京的支持率上升的结果。C项, 不能说明支持率稳步上升。D项, 唯一, 太绝对, 无法得出。

75. 有小利、小美、小景、小真、小珑五个孩子在一起玩耍, 有的孩子额头上沾了泥巴。显然, 每个孩子只能看见别人头上有没有泥巴, 而看不见自己头上有没有泥巴。头上沾有泥巴的孩子只说假话, 只说假话的孩子头上一定沾有泥巴。同样, 头上没泥巴的孩子只说真话, 只说真话的孩子头上一定没有泥巴。已知:

小利说: 我看见三个人头上没泥巴, 一个人头上有泥巴。



小美说: 我看见四个人头上都有泥巴。

小景说: 我看见四个人头上都没泥巴。

小珑说: 我看见一个人头上没泥巴, 三个人头上有泥巴。

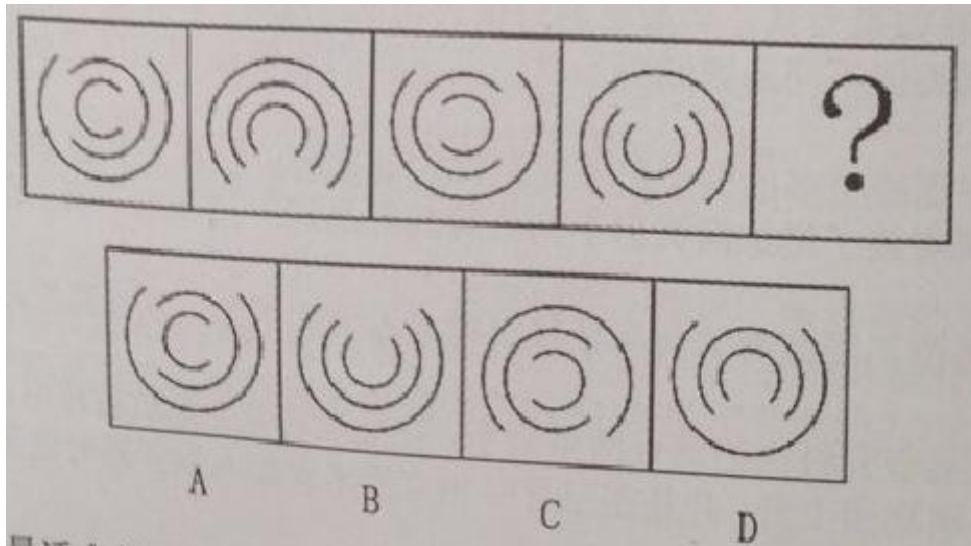
由此, 以下陈述一定为真的是 ()

- A. 小景头上没有泥巴
- B. 小利和小真头上没有泥巴
- C. 小美头上有泥巴
- D. 小真和小珑头上有泥巴

75. 【解析】C。假设小利说真话, 那么小美说假话, 其头上有泥巴, 小利、小景、小真、小珑头上没泥巴, 但是小珑说三个人头上有泥巴与假设矛盾, 所以小利说假话, B 项排除。假设小美说真话, 其头上没泥巴, 小利、小景、小真、小珑头上有泥巴, 小珑看见除自己外的一个人头上没泥巴 (小美), 三个人有泥巴, 与题干信息一致即说真话, 与假设相矛盾, 所以假设错误, 小美说假话, 其头上有泥巴。


八、图形推理。请按每道题的答题要求作答。

76. 请选择最适合的一项填入问号处, 使之符合之前四个图形的变化规律 ()



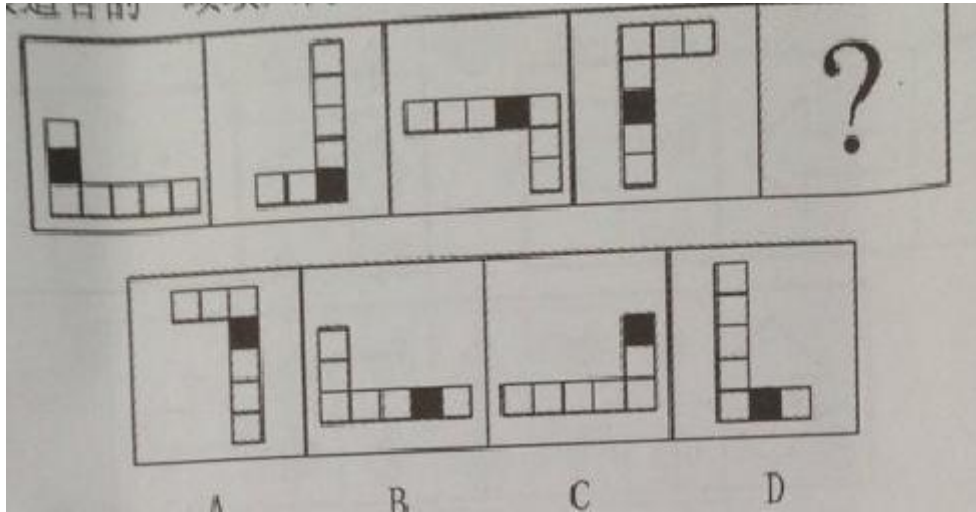
76. 【解析】A。图中图形, 发现内环每次顺时针旋转 90° , 因此最后内环顺时针旋转 90° 以后应该开口朝右, 只有 A 项符合。

77. 请选择最适合的一项填入问号处, 使之符合之前四个图形的变化规律 ()



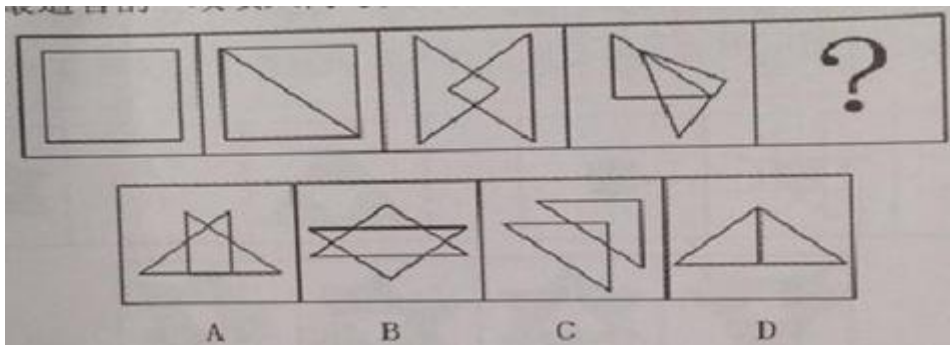
77. 【解析】D。此题是黑白叠加, 可以看出同色叠加为黑, 异色叠加为白, 只有 D 项符合。

78. 请选择最适合的一项填入问号处, 使之符合之前四个图形的变化规律 ()



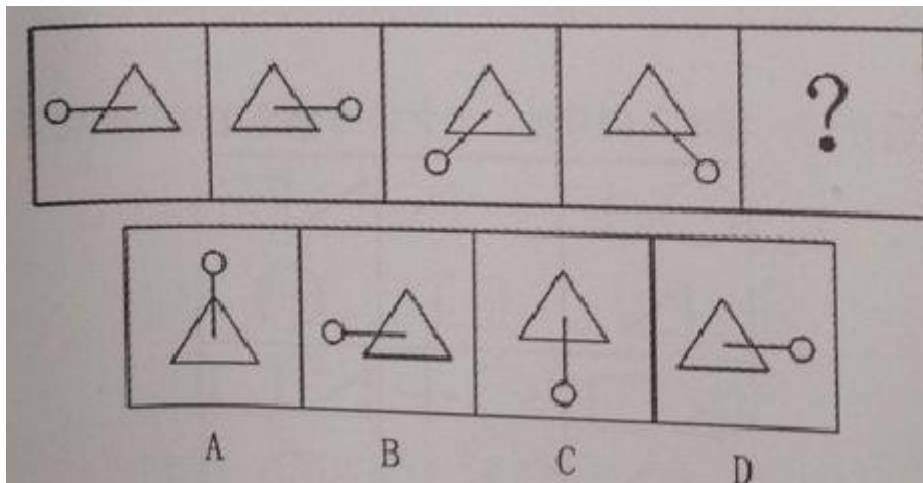
78. 【解析】B。整体看, 每个图形每次逆时针旋转 90° , 黑格每次移动一格, 只有 B 选项符合。

79. 请选择最适合的一项填入问号处, 使之符合之前四个图形的变化规律 ()



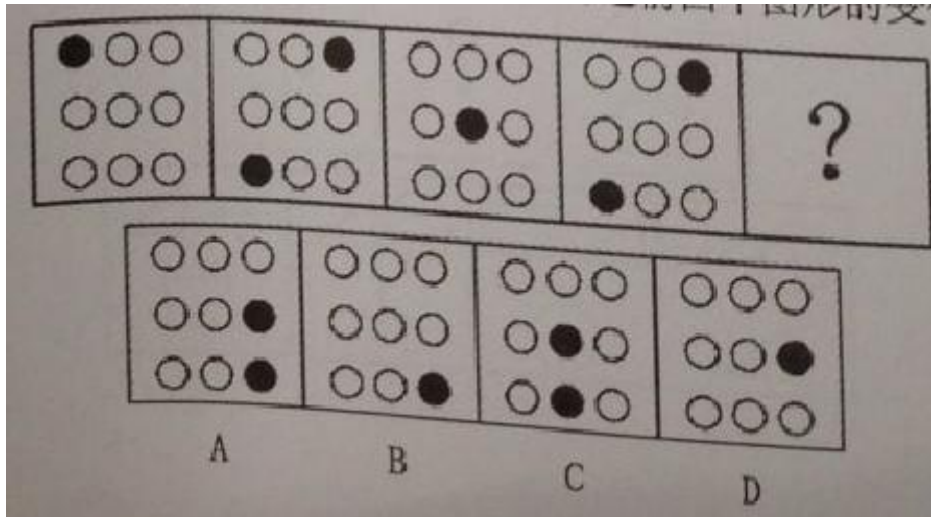
79. 【解析】A。观察到图形中封闭区域个数分别为 1、2、3、4, 因此所求图形应为 5 个, A 项正确。

80. 请选择最适合的一项填入问号处, 使之符合之前四个图形的变化规律 ()



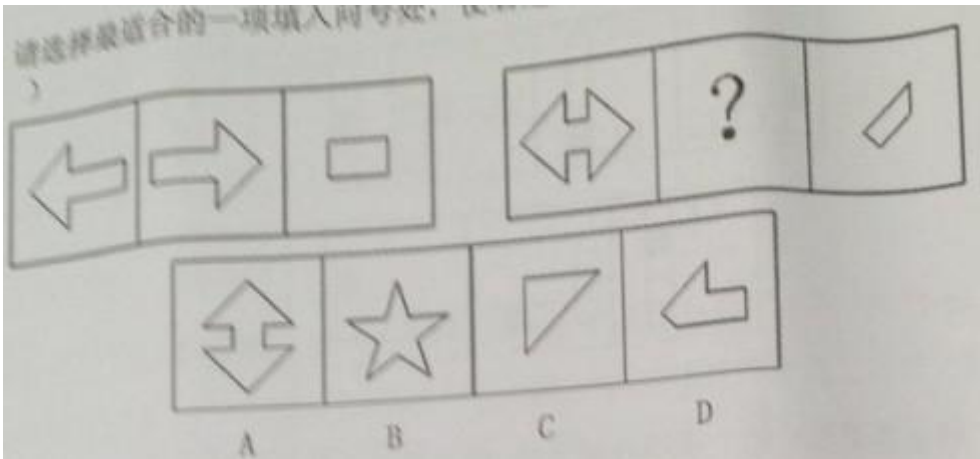
80. 【解析】B。图形中每次先左右翻转, 然后顺时针旋转 135° , B 项正确。

81. 请选择最适合的一项填入问号处, 使之符合之前四个图形的变化规律 ()



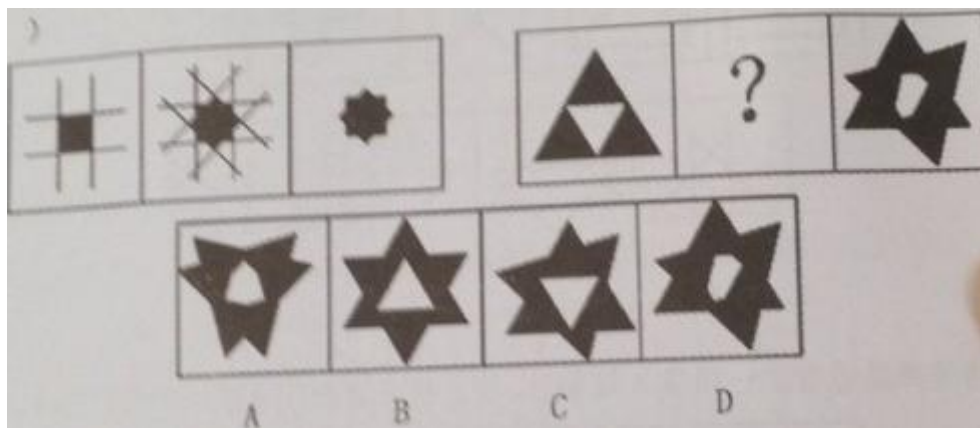
81. 【解析】B。可以发现黑圆变化较明显, 其数量变化特征为 1、2、1、2, 而且黑圆点在对角线上移动, 因此 B 项正确。

82. 请选择最适合的一项填入问号处, 使之符合之前四个图形的变化规律 ()




82. 【解析】D。两组式中, 第一组前两个图求同得到第三个图, 同样第二组也需要找一个图与第一个图求同得到第三个图, 只有 D 选项符合。(D 图与第一个图求同后与第三图存在差异 画图有误)

83. 请选择最适合的一项填入问号处, 使之符合之前四个图形的变化规律 ()




83. 【解析】B。两组式中, 第一组旋转叠加得到第二个图, 然后留下阴影部分得到第三个图, 同样第二组也先旋转叠加得到一个图, 然后留下黑色阴影得到第三个图, 只有 B 选项符合。

84. 请选择最适合的一项填入问号处, 使之符合之前四个图形的变化规律 ()



84. 【解析】B。发现每一行图形中，相邻图形均有两个元素是相同的而位置与前面不同，同时每一列图形中，相邻图形均有两个元素是相同的而位置与前面不同。第三行图中，可以看到右上角有直角三角形，C、D项中出现，因此排除。同样，第二列中A选项与上一个图相同，也排除，因此B项正确。

85. 请选择最适合的一项填入问号处，使之符合之前四个图形的变化规律（ ）



85. 【解析】D。此题需要一列一列地看，观察到每一列中各种花色排列顺序一定，♥♦♠交替出现，因此选D。



(共 15 题, 参考时限 15 分钟)

本部分仅有一种类型的试题:

九、资料分析: 请根据以下给出的图表、文字资料进行分析, 选出符合题目要求的正确答案 (共 15 题, 每题 1 分, 共 15 分)。

(一) 根据以下资料, 回答 86~90 题。

某社区通过随机发放问卷的方式对社区居民的业余生活进行了调查, 问卷回收率为 96.7%, 在所有回收的问卷中, 18 岁及以下居民 40 人, 19~36 岁居民 440 人, 37~59 岁居民 380 人, 60 岁及以上居民 107 人, 调查结果如下表所示:

社区不同年龄群体业余生活情况

年龄阶段	串门聊天	听收音机、看电视	打牌、打麻将	看书	户外运动	上网	旅游	其他
18 岁及以下	15	37.5	2.5	25	45	85	30	2.5
19~36 岁	26.8	47.7	20.9	29.5	38.6	59.8	19.8	9.1
37~59 岁	23.2	49.2	21.3	21.8	38.9	33.4	13.7	3.7
60 岁及以上	37.1	50.8	34.5	19	12.9	2.6	6	13.8

86. 本次调查一共发放了 () 份问卷。

- A. 500 B. 800 C. 1000 D. 1200

86. 【解析】C。根据第一段文字材料可知, 各年龄阶段的回收的问卷总和为 $40+440+380+107=967$ 。又因为问卷回收率为 96.7%, 可知本次调查一共发放了 $967 \div 96.7\% = 1000$ 份。

87. 本次调查中, 年龄阶段越大, 选取比例越高的选项共有 () 个。

- A. 1 B. 2 C. 3 D. 4

87. 【解析】B。根据表格材料可知, 只有听收音机、看电视 (各年龄段比例依次为 37.5、47.7、49.2、50.8) 和打牌、打麻将 (各年龄段比例依次为 2.5、20.9、21.3、34.5) 这两个业余生活中各年龄阶段的比例依次升高。其余的均不是依次升高的规律。

88. 19~36 周岁年龄段选取比例最高的业余生活选项, 被该年龄段共约 () 人选取。

- A. 260 B. 230 C. 210 D. 180

88. 【解析】A。根据题意可知, 19~36 周岁年龄段选取比例最高的业余生活选项为上网, 为 59.8%。这个年龄段调查的人数为 440 人, 因此, $440 \times 59.8\% \approx 260$ 人。

89. 所有受调查者中, 最多人选择的业余生活选项是 ()

- A. 户外运动 B. 上网
C. 看书 D. 听收音机、看电视

89. 【解析】D。根据题意, 用各个年龄段的居民数, 分别乘以他们各项业余活动的比例。

串门聊天: $40 \times 15\% + 440 \times 26.8\% + 380 \times 23.2\% + 107 \times 37.1\% = 252$

听收音机、看电视: $40 \times 37.5\% + 440 \times 47.7\% + 380 \times 49.2\% + 107 \times 50.8\% = 466$



打牌、打麻将: $40 \times 2.5\% + 440 \times 20.9\% + 380 \times 21.3\% + 107 \times 34.5\% = 211$

看书: $40 \times 25\% + 440 \times 29.5\% + 380 \times 21.8\% + 107 \times 19\% = 243$

户外运动: $40 \times 45\% + 440 \times 38.6\% + 380 \times 38.9\% + 107 \times 12.9\% = 350$

上网: $40 \times 85\% + 440 \times 59.8\% + 380 \times 33.4\% + 107 \times 2.6\% = 427$

旅游: $40 \times 30\% + 440 \times 19.8\% + 380 \times 13.7\% + 107 \times 6\% = 157$

其他: $40 \times 2.5\% + 440 \times 9.1\% + 380 \times 3.7\% + 107 \times 13.8\% = 70$

可以看出, 听收音机、看电视人数最多。

90. 关于本次调查, 以下说法正确的是 ()

- A. 该社区全部居民中, 所占比例最高的是 19~36 周岁居民
- B. 看书在各年龄段中的选取比例比旅游更相近
- C. 上网的选取比例在各年龄阶段中均排在前三位
- D. 户外运动的选取比例随着年龄阶段的上升而下降

90. 【解析】B。

A 项, 此题为随机抽样调查, 各个年龄段的居民比例无法确定。因此 A 项错误。

B 项, 根据表格数据可知。读书的数据均在 20% 左右, 而上网的数据变化幅度略大, 因此 B 项正确。

C 项, 上网的选取比例, 其中 18 岁及以下、19~36 岁、37~59 岁年龄阶段中均排在前三位, 而 60 岁及以上的排在第 7 位。因此 C 项错误。

D 项, 根据表格数据, 可以看出, 户外运动的选取比例随着年龄阶段的上升呈现先降低在升高的趋势。因此 D 项错误。

(二) 根据以下材料, 回答 91~95 题。

根据第六次全国人口普查数据, 农村 16 岁及以上劳动年龄人口数位 5.12 亿, 其中, 农业劳动力数为 2.94 亿。

农村 16 岁及以上劳动年龄人口中, 16~20 岁年龄组人口比重为 9.1%, 21~30 岁为 17.4%, 31~40 岁为 18.4%, 41~50 岁为 20.4%, 50 岁以上为 34.7%。

农村农业劳动力中, 16~20 岁年龄人口比重为 3.4%, 21~30 岁为 16.7%, 31~40 岁为 19.2%, 41~50 岁为 26.3%, 50 岁以上为 34.4%。

91. 农村 16 岁及以上劳动年龄人口中, 41 岁及以上年龄组的人口数约为 ()

- A. 1.04
- B. 1.78
- C. 2.39
- D. 2.82

91. 【解析】D。农村 16 岁及以上劳动年龄人口数为 5.12 亿, 41-50 岁占 20.4%, 50 岁以上占 34.7%, 则 41 岁及以上年龄组的人口约为 $5.12 \times (20.4\% + 34.7\%) = 2.82$ 亿, 答案为 D。

92. 农村 16 岁及以上劳动年龄人口中, 不属于农业劳动力的人口数为 () 亿。

- A. 1.46
- B. 2.18
- C. 2.94
- D. 5.12

92. 【解析】B。农村 16 岁及以上劳动年龄人口数为 5.12 亿, 农业劳动力数为 2.94 亿, 则不属于农业劳动力的人口数位 $5.12 - 2.94 = 2.18$ 亿, 答案为 B。

93. 农村 16 岁及以上劳动年龄人口中, 不属于农业劳动力的人口数以 () 年龄组为最多。

- A. 50 岁以上
- B. 41~50 岁
- C. 31~40 岁
- D. 16~20 岁

93. 【解析】A。比较 A 选项, 农村 50 岁以上非农业劳动力人数为: $5.12 \times 34.7\% - 2.94 \times 34.4\% = 0.765$ 亿; B 选项, 41-50 岁非农业劳动力人数为: $5.12 \times 20.4\% - 2.94 \times 26.3\% = 0.271$ 亿; C 选项, 31-40 岁非农业劳动力人数为: $5.12 \times 18.4\% - 2.94 \times 19.2\% = 0.378$; D 选项, 16-20 岁非农业劳动力人数为: $5.12 \times 9.1\% - 2.94 \times 3.4\% = 0.366$,



答案为 A。

94. 农村 16 岁及以上劳动年龄人口中, 21~30 岁的农业劳动力约 ()
 A. 占 9.6% B. 占 16.7% C. 6000 万人 D. 8900 万人

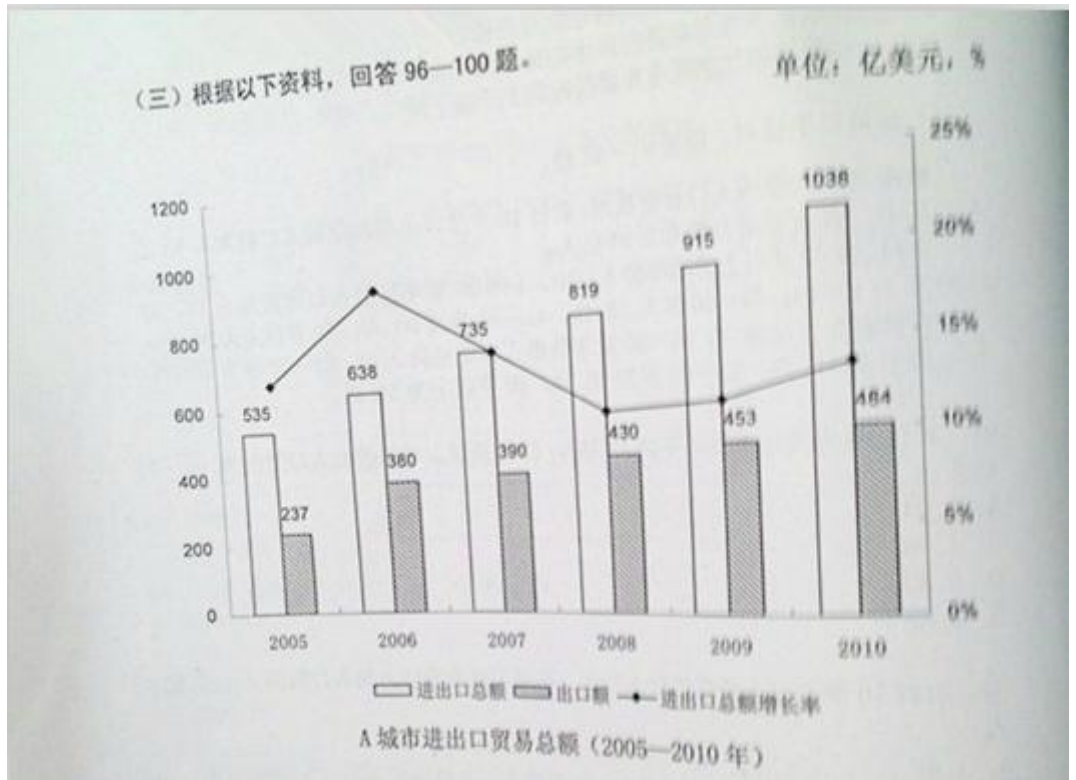
94. 【解析】D。直接读材料, 在农村农业劳动力中, 21-30 岁占 16.7%, 答案为 D。

95. 农村 16 岁及以上劳动年龄人口中, 下列说法正确的是 ()

- A. 农村人口老龄化越来越严重
 B. 进城务工农民以 40 岁及以下人口为主
 C. 16-50 岁人口中, 分组年龄越大从事农业的人口比重越大
 D. 农业劳动力的老龄化程度远远大于农村非农就业者及外出农民工

95. 【解析】C。A 选项, 材料中没有给出老龄化的相关数据, 无法判断; B 选项, 进城务工农民数据没有给出, 无法判断; C 选项, 16-50 岁人中, 16-20 岁所占比重为 3.4%, 21-30 岁所占比重为 16.7%, 31-40 岁所占比重为 19.2%, 41-50 岁所占比重为 26.3%, 50 岁以上所占比重为 34.4%, 比重越来越大, 正确; D 选项, 农业劳动力与非农就业者及外出农民工的老龄化的数据没有给出, 无法判断。

(三) 根据以下资料, 回答 96~100 题。



96. 2005 年-2010 年, A 城市的进出口有 () 年呈现贸易顺差。

- A. 3 B. 4 C. 5 D. 6

96. 【解析】A。比较 2005 年, 进出口总额为 535 亿美元, 出口额为 237 亿美元, 则进口额为 298 亿美元, 出口小于进口, 贸易逆差; 同理, 2006 年出口 380 亿美元, 进口 258 亿美元, 出口大于进口, 贸易顺差; 2007 年, 出口 390 亿美元, 进口 345 亿美元, 出口大于进口, 贸易顺差; 2008 年, 出口 430 亿美元, 进口 389 亿美元, 出口大于进口, 贸易顺差; 2009 年, 出口 453 亿美元, 进口 462 亿美元, 出口小于进口, 贸易逆差; 2010 年, 出口 484 亿美元, 进口 554 亿美元, 出口小于进口, 贸易逆差, 因此有 3 年呈现贸易顺差, 答案为 A。

97. A 城市的 2010 年进口额比 2005 年增长了 () 亿美元。

- A. 247 B. 256 C. 298 D. 503

97. 【解析】B。根据上题, 2010 年进口额为 554 亿美元, 2005 年进口额为 298 亿美元, 增长了 256 亿美



元, 答案为 B。

98. 2010 年, A 城市的进口额增长率与出口额增长率相差 ()

- A. 7% B. 9% C. 11% D. 13%

98. 【解析】D。2010 年, A 城市的进口额增长率为 $[(1038-484) - (915-453)] / (915-453) = 19.91\%$, 出口额增长率为 $(484-453) / 453 = 6.84\%$, 相差约为 13%, 答案为 D。

99. 2005 年~2010 年, A 城市的进出口总额增长率最高值与最低值相差约 ()

- A. 4% B. 6% C. 8% D. 10%

99. 【解析】C。根据图, 可知进出口总额增长率最高的年份是 2006 年, 最低的年份为 2008 年, 最高为: $(638-535) / 535 = 19.25\%$, 最低为: $(819-735) / 735 = 11.43\%$, 约相差 8%, 答案为 C。

100. 根据材料, 以下说法错误的有 () 个。

- ①2007 年开始, A 城市的进出口总额开始有所回落
- ②2005 年到 2010 年间, A 城市的进口额不断增长
- ③2005 年到 2010 年间, A 城市出口额的增长幅度不断增大
- ④2009 年开始, A 城市的进出口总额增长幅度开始有所回升

- A. 1 B. 2 C. 3 D. 4

100. 【解析】C。①从图中可以看出, A 城市的进出口总额一直呈现上升趋势。因此①错误

②2005 年进口额: $535-237=298$; 2006 年进口额: $638-380=258$;

2007 年进口额: $735-390=345$; 2008 年进口额: $819-430=389$;

2009 年进口额: $915-453=462$; 2010 年进口额: $1038-484=554$

可以看出, 从 2005 年到 2010 年, A 城市的进口额不是呈现不断增长的趋势, 而是先降低在升高。因此②错误。

③2005 年的出口额的增长率不确定; 2006 年出口额增长率为: $(380-237) / 237 = 60.34\%$; 2007 年出口额增长率为: $(390-380) / 380 = 2.63\%$; 2008 年出口额增长率为: $(430-390) / 390 = 10.26\%$; 2009 年出口额增长率为: $(453-430) / 430 = 5.35\%$; 2010 年出口额增长率为: $(484-453) / 453 = 8.78\%$ 。可以看出, A 城市出口额的增长幅度不是不断增大。因此③也错误。

④从表中折线图可以看出, 从 2009 年开始, A 城市的进出口总额增长幅度开始有所回升, 是正确的。

综上所述, ①②③错误, ④正确。因此选择 C。